

2019/2020 учебный год

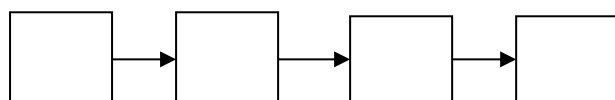
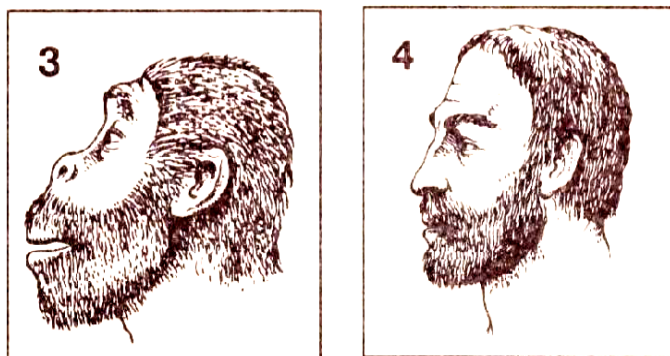
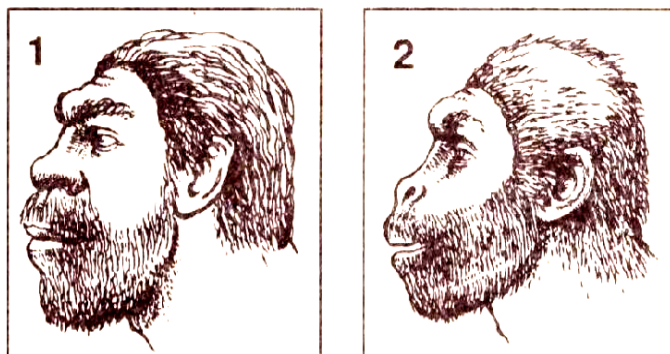
Всероссийская олимпиада школьников по истории

Школьный этап

6 класс

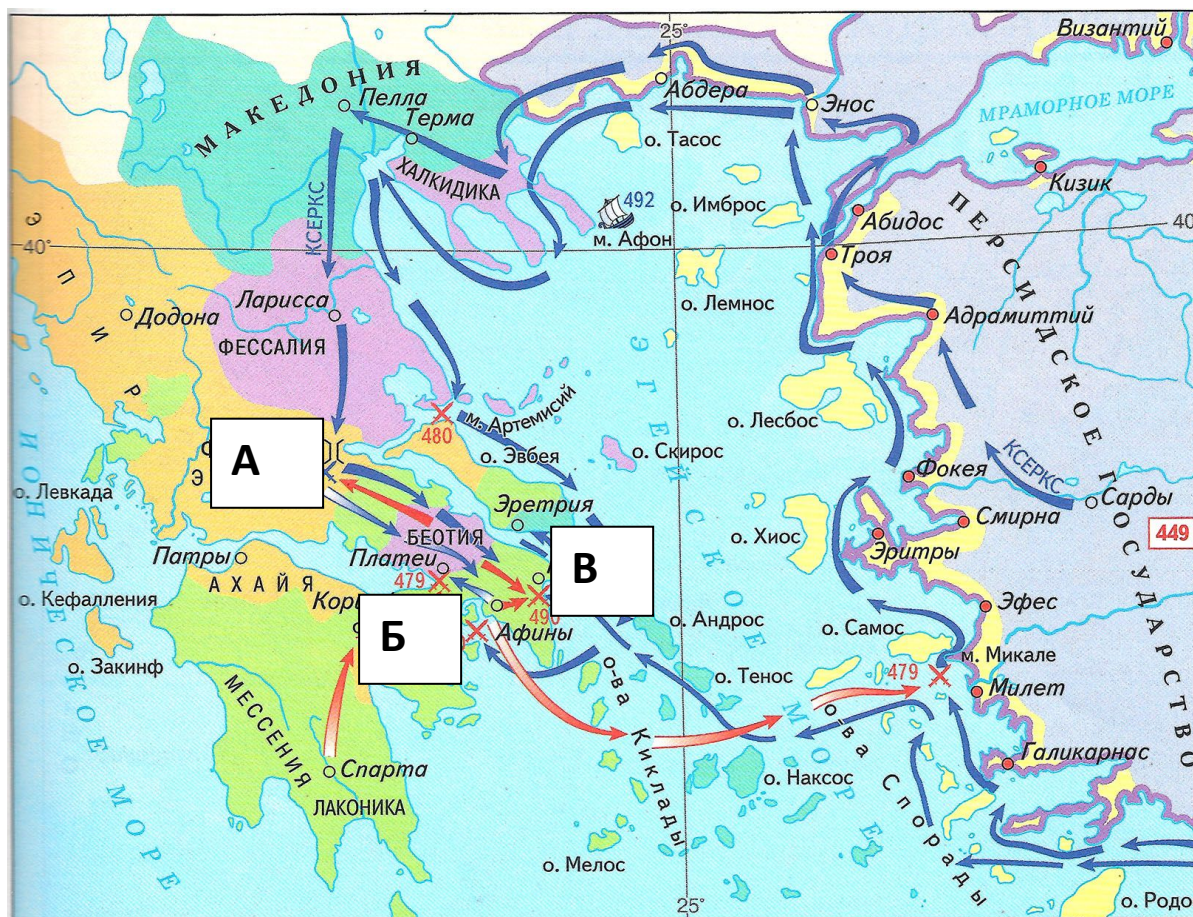
Время выполнения – 1 час (60 минут)

Задание № 1. Расположите в правильной последовательности изображения древних людей. [8 баллов].



Задание № 2. Соотнесите фрагменты описаний знаменитых сражений одного из знаменитых вооруженных конфликтов античности и места этих сражений, отмеченные на карте буквами. Назовите эти сражения и сам вооруженный конфликт. Свой ответ оформите в виде таблицы [14 баллов].





1. Битва при ... длилась долго. В центре боевой линии, где стояли сами персы и саки, одолевали варвары. Здесь победители прорвали ряды афинян... Однако на обоих крыльях одерживали верх афиняне и платейцы. После победы афиняне не стали преследовать обратившихся в бегство врагов, но, соединив оба крыла, сражались с врагами, прорвавшими центр. И здесь также победили афиняне. Затем они начали преследовать... бегущих персов, пока не достигли моря. Здесь они старались напасть на корабли и поджечь их.

2. Отряд же этот во главе с Леонидом спартанцы выслали вперед для того, чтобы остальные союзники видели это и также выступили в поход... Наконец, полчища Ксеркса стали подходить. Эллина же во главе с Леонидом, идя на смертный бой, продвигались теперь гораздо дальше в то место, где проход расширяется... Эллина бросились врукопашную уже вне прохода, и в этой схватке варвары погибали тысячами. За рядами персов стояли начальники отрядов с бичами в руках и ударами бичей подгоняли воинов все вперед и вперед... В этой схватке пал также и Леонид после доблестного сопротивления и вместе с ним много других знатных спартанцев.



3. «...Вперед, сыны Эллады, устремитесь в бой!
Освободите алтари родных богов,
Детей и жен своих. Ведь бой идет за все!..»
Когда ж в теснине корабли персидские
Столкнулись, весла сокрушая тяжестью,
Друг друга клювами бодая медными,
Тут ни защиты не было, ни помощи...»

Описание сражений	Буква	Название сражения
1		
2		
3		

Название конфликта: _____

Задание № 3. Дайте краткое обоснование ряда и вычеркните лишнее [6 баллов].

3.1. Битва при Гавгамелах, осада Тира, битва при Иссе, битва при Платеях

3.2. Ра, Янус, Осирис, Анупис _____

3.3. Акведук, форум, зиккурат, амфитеатр _____

Задание № 4. Соотнесите изображения подвигов Геракла, античного мифологического персонажа, с их названиями. Свой ответ оформите в виде таблицы [12 баллов].


1. Добыча шкуры Немейского льва.
2. Победа над Лернейской гидрой
3. Поимка Керинейской лани.
4. Поимка Эриманфского вепря.
5. Очистка Авгиевых конюшен.
6. Изгнание Стимфалийских птиц.
7. Поимка Критского быка.



8. Похищение кобылиц Диомеда.
9. Добыча пояса Ипполиты.
10. Доставка в Микены коров Гериона.
11. Добыча золотых яблок Гесперид.
12. Захват пса Кербера.



А.



Б.





В.



Г.

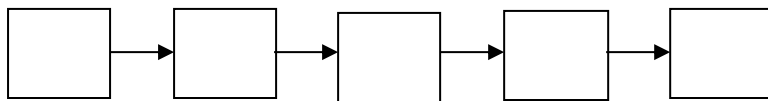
Подвиг (цифра)	Буква изображения
	А
	Б
	В
	Г

Задание № 5. Расположите в хронологической последовательности события поздней античности и раннего Средневековья [10 баллов].

1. Взятие Рима готами.
2. Битва при Пуатье между франками и арабами.



3. Взятие Рима вандалами.
4. Начало правления династии Каролингов.
5. Основание королевства франков в Галлии.



Задание № 6. Ответьте на вопросы, связанные с краеведением Подмосковья. Свой ответ оформите в виде таблицы [22 балла].

6.1. Выберите города Московской области, в которых сохранились древние кремли и крепости, и в которых они не сохранились наших дней. (12 баллов)

1. Можайск. 2. Коломна. 3. Зарайск. 4. Серпухов. 5. Сергиев-Посад.
6. Волоколамск.

Города, в которых сохранились кремли и крепости	Города, в которых они не сохранились

6.2. Назовите не менее пяти городов Подмосковья, названных в честь выдающихся военных, государственных деятелей, ученых и деятелей культуры. (10 баллов)

1. _____
2. _____
3. _____
4. _____
5. _____

Задание № 7. Установите соответствие между описанием подвига, совершенного в годы Великой Отечественной войны, и имени героя, его совершившего. Свой ответ оформите в виде таблицы [10 баллов].

- | | |
|---|-----------------------|
| 1. Взорвал гранатой себя вместе с окружившими его врагами | А. Николай Гастелло |
| 2. Направил свой горящий самолет на колонну техники врага | Б. Александр Матросов |
| 3. Совершил ночной таран самолета противника | В. Виктор Талалихин |



4. Закрыв грудью амбразуру вражеского дота

Г. Алексей Маресьев

5. Военный летчик, потеряв обе ноги, вернулся в строй и успешно воевал, сбив семь самолетов врага

Д. Анатолий Кокорин

Описание подвига	Имя Героя (буква)
1	
2	
3	
4	
5	

Задание № 8. Укажите, какие населенные пункты Московской области являются наукоградами, а какие – населенными пунктами воинской славы и воинской доблести. Свой ответ оформите в виде таблицы [18 баллов].

Населенные пункты:

1. Фрязино. 2. Истра. 3. Молоди. 4. Дубна. 5. Кашира. 6. Реутов.
7. Солнечногорск. 8. Протвино. 9. Ярополец.

Населенные пункты воинской славы и воинской доблести	Наукограды

Итого – 100 баллов.

ЖЕЛАЕМ УСПЕХОВ!!!

