

1. [3 балла]

Расположите города СССР в той хронологической последовательности, в которой они были оккупированы гитлеровскими войсками в 1941 году:

А) Брест	Г) Киев	Ж) Псков
Б) Брянск	Д) Львов	З) Рига
В) Вильнюс	Е) Минск	И) Тверь

Ответ:

1	2	3	4	5	6	7	8	9
А	В	Е	Д	З	Ж	Г	Б	И


За полностью верную последовательность – 3 балла.

Если верная последовательность может быть восстановлена путём перестановки двух любых букв местами – 2 балла.

В остальных случаях 0 баллов.

2. [6 баллов]

В экспозиции музея представлена дирижёрская палочка знаменитого советского композитора. Выберите из перечня ниже его портрет:



А



Б



В



Г



Д



Е

Укажите букву, обозначающую портрет: В (2 балла)

Укажите фамилию композитора: Александров (1 балл)

Если фамилия композитора не указана, ВСЕ остальные баллы НЕ СЧИТАЮТСЯ.

Укажите название песни, музыку к которой этот композитор сочинил в первые дни войны: Священная война (1 балл)

На фасаде какого здания в Москве находится памятная доска, посвящённая первому исполнению этой песни: Белорусский вокзал (1 балл)

Выберите кадр из фильма, название которого совпадает с названием вышеупомянутого здания:



1



2



3



4

Укажите номер кадра: 2 (1 балл)

Если название здания не указано, балл за кадр из фильма НЕ СЧИТАЕТСЯ.

3. [4 балла]

В экспозиции музея представлены награды и китель одного из советских маршалов, члена Ставки Верховного Главнокомандования.

Выберите из перечня ниже его портрет:




1



2



3



4

Укажите номер портрета: правильный номер - 1 (1 балл)

Укажите, чем уникальна судьба этого военачальника по сравнению с другими советскими маршалами времён Великой Отечественной войны:

Единственный маршал, умерший во время войны (1 балл за верную формулировку. Должно быть указано, что речь идёт именно о смерти, а не о гибели)

Напишите в поле ответа буквы, обозначающие те ордена, которыми не был награждён этот маршал.

- | | |
|---------------------------|-------------------|
| А) Орден Дружбы народов | Г) Орден Кутузова |
| Б) Орден Красного Знамени | Д) Орден Ленина |
| В) Орден Красной Звезды | Е) Орден Суворова |

Ответ: АГ (2 балла за полностью верный ответ (в любой последовательности), 1 балл за 1 верную буквы, остальное 0 баллов).

Если в ответе указаны лишние буквы, за каждую снимается 1 балл.

4. [5 баллов]

В одном из залов музея можно ознакомиться со страницами дневника ленинградской школьницы, который та вела во время блокады.

Укажите имя и фамилию школьницы: Таня Вассоевич (1 балл)

Укажите, в каком году умерла автор дневника: 2012 (2 балла)

Напишите имя девочки, ставшей автором самого известного в мире дневника времён Второй мировой войны: Анна Франк (1 балл)

Выберите из перечня ниже её портрет:



1



2



3



4

Укажите номер портрета: 2 (1 балл)

5. [4 балла]

В экспозиции музея представлено боевое оружие легендарной женщины-снайпера, с которым она воевала.

Назовите имя и фамилию снайпера: Александра Шляхова (1 балл)

Назовите модель вышеупомянутого оружия: Винтовка Мосина, 7,62-мм винтовка обр. 1891 г. (1891/30 гг.), трёхлинейка (1 балл). За снайперскую винтовку 7,62 балл не ставится.

Каких ещё советских снайперов Вы знаете? Назовите их имена (не более трёх): Василий Зайцев, Людмила Павличенко, Роза Шанина, Алия Молдагулова и т. д. (За три подходящих имени – 2 балла, за два имени – 1 балл, остальное – 0).

6. [5 баллов]

В дни Сталинградской битвы советские и немецкие войска без малого два месяца вели ожесточённые бои за здание мельницы по Пензенской улице. Захватить это здание врагу так и не удалось. Ответьте на некоторые вопросы, связанные с этим важным объектом.

Укажите фамилию и воинское звание командующего обороной здания:

Иван Иванович Наумов (старший лейтенант) или Захар Петрович Червяков (старший лейтенант) (1 балл за верные имя и фамилию, 1 балл за верное воинское звание)

Назовите ещё три любых объекта в Сталинграде, разрушенных во время боёв 1942–1943 годов:

Нужно указать дополнительные 3 объекта. В случае, если командующим указан Наумов или Червяков, балл за мельницу Гергардта не ставится. В случае, если командующим указан Павлов или Афанасьев, балл за дом Павлова не ставится.

Могут быть названы: Дом Павлова, Мельница Гергардта, дом Заболотного, здание Госбанка, фонтан «Бармалей», Волгоградский элеватор и другие объекты (за каждый верный объект – по 1 баллу). За географические объекты или объекты без наименованием (школа, вокзал, театр и т.д.) балл не ставится.

7. [9 баллов]

В зале, посвящённом союзникам СССР в борьбе с гитлеровской Германией, Вы можете найти флаги стран-участниц Антигитлеровской коалиции. Выберите из перечня ниже те флаги, которых в этом зале нет. Назовите страны, к которым эти флаги относятся.



1



2



3



4



5



6



7



8



9

Ответ:

Номер лишнего флага	Название страны
2	Венгрия
6	Швейцария
8	Ирландия

Последовательность перечисления флагов в таблице может быть любой. 2 балла выставляется за каждую полностью верно заполненную строку. Только за флаг или только за название страны балл не выставляется.

Найдите среди флагов в перечне флаг союзницы Гитлера – Италии. Укажите его цифру. Объясните, почему он находится среди флагов стран Антигитлеровской коалиции:

Цифра – 1 (1 балл). В сентябре 1943 года, после свержения Муссолини, Италия капитулировала перед странами Антигитлеровской коалиции, а в октябре того же года – объявила Германии и её союзникам войну. (За полностью верное объяснение, в котором сказано о выходе Италии из войны, а затем вступлении на стороне союзников – 2 балла. Если сказано только о выходе из войны – 1 балл).

8. [8 баллов]

В экспозиции музея представлены два подарка в украинском национальном стиле с подписью «В благодарность от народа УССР» (укр. «В подяку від народу УРСР»). Подарки были предназначены для двух советских военачальников. Оба они погибли до окончания Великой Отечественной войны. Назовите (в любой последовательности) сами подарки и фамилии их адресатов, а также кратко укажите обстоятельства гибели этих военачальников.

Ответ:

Подарок (написать, что это за предмет)	Фамилия военачальника, которому он предназначался	Обстоятельства гибели этого военачальника
рушник	Ватутин	Смертельно ранен в перестрелке (может быть

<p>(полотенце) 2 балла за верный ответ</p>	<p>(1 балл)</p>	<p>указано «убит бандеровцами/УПА/ украинскими националистами»). Должно быть указано как минимум то, кем убит, или то, как убит. За это – 1 балл.</p>
<p>купон рубашки (вышиванки) (если в ответе указано, что это именно купон, то есть отрез ткани для дальнейшего шитья рубашки, – 2 балла. Если просто рубашка/вышиванка – 1 балл)</p>	<p>Черняховский (1 балл)</p>	<p>Ранен осколком немецкого снаряда. Должно быть указано, что речь именно об осколке. За это – 1 балл.</p>

9. [4 балла]

Среди личных вещей Гитлера, представленных в музее, можно найти предмет, подаренный ему лидером одной из стран-союзниц нацистской Германии.

Укажите, что это за предмет: глобус (1 балл)


Укажите фамилию того, кто его подарил: Муссолини (1 балл)

Напишите, какие ещё личные вещи Гитлера экспонируются в музее:

Должны быть указаны китель (униформа) Гитлера и фуражка Гитлера (по 1 баллу за каждый предмет)

10. [5 баллов]

В экспозиции музея можно найти этот плакат, посвящённый освобождению советскими войсками одного из городов СССР:



Укажите название этого города: Таллин (1 балл)

Укажите, в каком году появился плакат: 1944 (1 балл)

Укажите фамилию художника – автора плаката: Окас (1 балл)

Назовите ещё четыре любых города СССР, которые были освобождены в этом же году:

Могут быть названы такие города, как Новгород, Луцк, Ровно, Кривой Рог, Херсон, Винница, Николаев, Черновцы, Одесса, Керчь, Симферополь, Феодосия, Тернополь, Ялта, Севастополь, Выборг, Могилёв, Петрозаводск, Минск, Вильнюс, Гродно, Нарва, Львов, Станислав, Кишинёв, Тарту, Таллин, Рига. Могут быть названы и другие города.

Ленинград не считается, так как он не был оккупирован. Не советские города (Ужгород, Люблин, Яссы, Бухарест, Прага и т. д.) – тоже не считаются, так как в условии задания указано «города СССР».

За 4 верно указанных города – 2 балла, за 3 города – 1 балл, за 2 и менее – 0 баллов.