

ВСЕРОССИЙСКАЯ ОЛИМПИАДА ШКОЛЬНИКОВ ПО ОСНОВАМ БЕЗОПАСНОСТИ
ЖИЗНЕДЕЯТЕЛЬНОСТИ
(ШКОЛЬНЫЙ ЭТАП)

ТЕОРЕТИЧЕСКИЙ ТУР

младшая возрастная группа (5-6 классы)

Код/шифр участника

--	--	--	--	--	--	--	--

Уважаемый участник Олимпиады!

Вам предстоит выполнить теоретические (письменные) и тестовые задания.

Выполнение теоретических (письменных) заданий целесообразно организовать следующим образом:

- не спеша, внимательно прочитайте задание и определите, наиболее верный и полный ответ;
- отвечая на теоретический вопрос, обдумайте и сформулируйте конкретный ответ только на поставленный вопрос;
- если Вы отвечаете на задание, связанное с заполнением таблицы или схемы, не старайтесь детализировать информацию, вписывайте только те сведения или данные, которые указаны в вопросе;
- особое внимание обратите на задания, в выполнении которых требуется выразить Ваше мнение с учетом анализа ситуации или поставленной проблемы. Внимательно и вдумчиво определите смысл вопроса и логику ответа (последовательность и точность изложения). Отвечая на вопрос, предлагайте свой вариант решения проблемы, при этом ответ должен быть кратким, но содержать необходимую информацию;
- после выполнения всех предложенных заданий еще раз удостоверьтесь в правильности выбранных Вами ответов и решений.

Выполнение тестовых заданий целесообразно организовать следующим образом:

- не спеша, внимательно прочитайте тестовое задание;
- определите, какой из предложенных вариантов ответа наиболее верный и полный;
- обведите кружком букву, соответствующую выбранному Вами ответу;
- продолжайте таким образом работу до завершения выполнения тестовых заданий;
- после выполнения всех предложенных заданий еще раз удостоверьтесь в правильности выбранных Вами ответов;

Предупреждаем Вас, что:

- при оценке тестовых заданий, где необходимо определить один *правильный ответ*, 0 баллов выставляется как за неверный ответ, а также, если участником отмечены несколько ответов (в том числе правильный), или все ответы;
- при оценке тестовых заданий, где необходимо определить все *правильные ответы*, 0 баллов выставляется, если участником отмечено большее количество ответов, чем предусмотрено в задании (в том числе правильные ответы) или все ответы.

Задание теоретического тура считается выполненным, если Вы вовремя сдаете его членам жюри. **Максимальная оценка - 100 баллов.**

Желаем вам успеха!

Общая оценка результата выполнения участником
заданий теоретического тура _____

баллов

Председатель жюри _____



olympmo.ru



@olymp_mo



/olympmo



/olympmo



@olympmo

Задание 1. Укажите стрелками соответствие между названием дорожного знака и его изображением.

	Дорога для автомобилей
	Автомагистраль
	Место остановки трамвая
	Конец жилой зоны
	Надземный пешеходный переход

Оценочные баллы: максимальные- 15 **баллов**; фактические - ___ **баллов**.



olympmo.ru



@olymp_mo



/olympmo

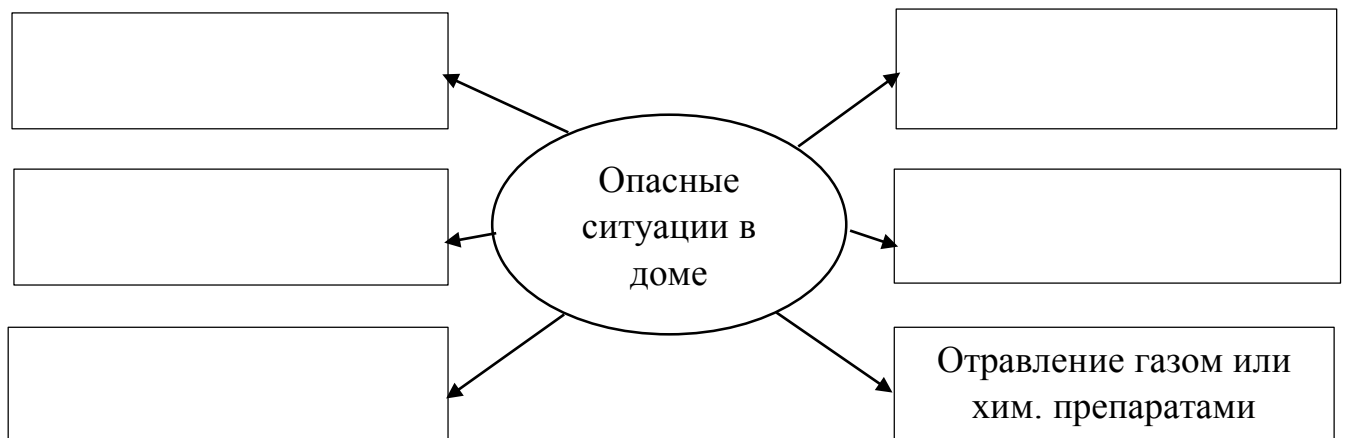


/olympmo



@olympmo

Задание 2. Составьте схему «Опасные ситуации в доме».



Оценочные баллы: максимальные- 15 **баллов**; фактические - ___ **баллов**.

Задание 3. Покупая билеты на поезд, Вы хотите приобрести билет на наиболее безопасное место. Какие места в вагоне являются наиболее безопасными? Выберите правильные ответы.

1. места в центральных вагонах
2. места в первом или последнем вагонах
3. места на нижних полках
4. места на верхних полках
5. места в купе с аварийным выходом
6. места, расположенные лицом по ходу движения
7. места, расположенные спиной по ходу движения

Ответ _____

Оценочные баллы: максимальные- 12 **баллов**; фактические - ___ **баллов**.



olympmo.ru



@olymp_mo



/olympmo







/olympmo



@olympmo

Задание 4. На рисунках в таблице показаны три действия, которые в обязательном порядке необходимо провести при оказании первой помощи пострадавшему. Как они называются?

	
	
	
	<p>Вызвать скорую медицинскую помощь по номеру 103 или 112</p>

Оценочные баллы: максимальные- **12 баллов**; фактические - **___ баллов**.

Задание 5. Весной Вы отправляетесь в лес. Какие меры предосторожности предпримете, чтобы не пострадать от укуса клеща? Заполните таблицу.

Защита от клещей

			<p>После прогулки по лесу, нужно проводить само- и взаимоосмотры</p>
--	--	--	--

Оценочные баллы: максимальные- **6 баллов**; фактические - **___ баллов**.



ТЕСТОВЫЕ ЗАДАНИЯ

Определите один правильный ответ
За каждый правильный ответ начисляется по 2 балла.

1. Выберите, пульс в состоянии покоя у детей?

- а) 11 лет – 75-82, 12 лет – 72-80, 13 лет – 78-81;
- б) 11 лет – 78-81, 12 лет 75-82, 13 лет – 72-80;
- в) 11 лет – 72-75, 12 лет 75-81, 13 лет – 78-80.

2. Какое упражнение, подходит для тренировки дыхательной системы?

- а) объятия;
- б) качели;
- в) скалолаз.

3. Какие продукты являются источниками белка?

- а) рыба, мясо;
- б) фрукты;
- в) хлебобулочные изделия.

4. Выберите, правильное соотношение белков, жиров и углеводов.

- а) 1:1:6;
- б) 1:1:8;
- в) 1:1:4.

5. Выберите из перечисленного «медленные» углеводы?

- а) банан, хлеб, печенье, газировка;
- б) чипсы, сок, хлеб, мед;
- в) кукуруза, макароны из твердых сортов пшеницы, огурец, черный хлеб.

6. Непрерывное пребывание за компьютером не должно превышать?

- а) 30 мин;
- б) 20 мин;
- в) 40 мин.



7. Признаки отравления бытовым газом?

- а) резкие ощущения сонливости, тошнота, рвота, ощущения удушья;
- б) температура, рвота, боли в животе, тошнота;
- в) температура, ощущения удушья, боли в животе, тошнота.

8. В каком году впервые были приняты правила дорожного движения?

- а) 1925;
- б) 1930;
- в) 1920.

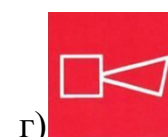
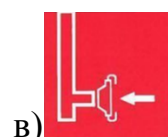

9. Как называются пересечение и соединение дорог?

- а) перекрестки;
- б) переходы;
- в) развилки.

10. Что из перечисленного относится к признакам сотрясения мозга?

- а) нарушение координации движений, температура, гематома, тошнота;
- б) резкая головная боль, рвота, тошнота, кружится голова, двоится в глазах;
- в) тошнота, рвота, боль в ключице, двоится в глазах, температура.

11 Какой знак обозначает «Кнопку включения систем пожарной автоматики»?



12 Как называется угол между направлением на север и направлением на любой предмет?

- а) биссектриса;
- б) обратный азимут;
- в) азимут.

13 Если вы стоите лицом к Полярной звезде, где будет находиться север, юг, запад, восток?

- а) север – впереди, юг – за спиной, запад – слева, восток – справа;



б) север- за спиной, юг – впереди, запад – слева, восток- справа;

в) север- впереди, юг – за спиной, запад – справа, восток – слева.

14 По каким местным приметам можно определить стороны света:

а) стволам и коре деревьев, лишайнику и мху, склонам холмов и бугров, муравейникам, таянию снега;

б) кустарнику и сухой траве, направлению течения ручьев и рек, наезженной колее;

в) полыньям на водоемах, скорости ветра, направлению комлей валяющихся на дороге спиленных деревьев.

15. Стороны света можно определить по:

а) манометру;

б) компасу;

в) термометру.


16. Признаки укуса сначала не выразительны. На коже образуется едва заметная ранка. Однако через несколько минут (не более 15-20 минут) в месте укуса может появиться припухлость, покраснение, болезненность, зуд на коже, слизистое выделение из носа и глаз, температура тела может повыситься. Возможно появление сыпи по всему телу, появляется головная боль. Эти признаки укуса характерны для:

а) домашних животных;

б) змей;

в) насекомых.

17. Выберите из предложенных картинок след от укуса неядовитой змеи?



18. В какой период дня клещи наиболее активны?

а) утром и вечером;



olympmo.ru



@olymp_mo



/olympmo



/olympmo



@olympmo

- б) ночью и днем;
 в) всегда.

19. Две причины вызывающие судорогу (неконтролируемое сокращение мышц, сопровождающееся острой болью)

- а) резкая смена температуры окружающей среды и резкие движения;
 б) удар и резкие движения;
 в) болезни, сопровождающиеся нарушением свертываемости крови, такие как гемофилия.

20. Какие требования предъявляются к подбору рюкзака для несложного и немногодневного похода?

- а) рюкзак подростка: объем 130 литров, вес не превышает 50 кг, жесткая спинка, разгрузочный пояс не менее 10 см, ткань плотная, влагонепроницаемая;
 б) рюкзак подростка: объем 60 литров, вес не превышает 15 кг, жесткая спинка, разгрузочный пояс не менее 10 см, ткань плотная, влагонепроницаемая;
 в) рюкзак подростка: объем 60 литров, вес не превышает 30 кг, мягкая спинка, разгрузочный пояс не менее 10 см, ткань плотная, влагонепроницаемая.

Таблица ответов:

Номер тестового задания	Верный ответ	Номер тестового задания	Верный ответ
1		11	
2		12	
3		13	
4		14	
5		15	
6		16	
7		17	
8		18	
9		19	
10		20	

Итого за выполненные задания:

максимальные - **100 баллов;**

фактические - **баллов**

