



Муниципальный этап  
Всероссийской олимпиады школьников по истории  
2019-2020 учебный год

7 класс

**Задание № 1.** Соотнесите изображения правителей Российского государства и храмы, построенные в их правление. Назовите этих правителей. *Ориентировка по названию храма.* Свой ответ оформите в виде таблицы [12 баллов].






3.



В.



4.



Г.

Цифра (правитель)	Правитель	Храм (буква)	Название храма
			Храм Покрова-на-Нерли
			Спасский собор Спасо-Андронникова монастыря
			Успенский собор в Кремле
			Храм Вознесения в Коломенском

**Задание № 2.** Внимательно изучите представленный ниже отрывок из документа и ответьте на вопросы к нему [10 баллов].

«В лето 6531. Пошел Мстислав на Ярослава с хазарами и касогами.

В лето 6532. Когда Ярослав был в Новгороде, пришел Мстислав из Тмутаракани в Киев, и не приняли его киевляне. Он же пошел и сел на стол в Чернигове; Ярослав же был тогда в Новгороде. В тот же год восстали волхвы в Суздале; по дьявольскому наущению и бесов-



скому действию избивали старшую чадь, говоря, что держат запасы. Был мятеж великий и голод по всей той стране; и пошли по Волге все люди к болгарам, и привезли хлеба, и так ожили. Ярослав же, услышав о волхвах, пришел в Суздаль; захватив волхвов, одних изгнал, а других казнил, говоря так: «Бог за грехи посылает на всякую страну голод, или мор, или засуху, или иную казнь, человек же не знает, за что». И возвратившись, пришел Ярослав в Новгород, и послал за море за варягами. И пришел Якун с варягами, и был тот Якун красив, и плащ у него был золотом выткан. И пришел к Ярославу, и пошел Ярослав с Якуном на Мстислава. Мстислав же, услышав, вышел против них к \_\_\_\_\_ (1). Мстислав же с вечера исполнил дружину и поставил северян прямо против варягов... И наступила ночь, была тьма, молния, гром и дождь. И сказал Мстислав дружине своей: «Пойдем на них!» И пошли Мстислав и Ярослав друг на друга, и схватились северяне с варягами... И была сеча сильна и страшна. И когда увидел Ярослав, что терпит поражение, побежал с Якуном, князем варяжским, и Якун потерял тут свой плащ золотой. Ярослав же пришел в Новгород, а Якун ушел за море... И послал Мстислав за Ярославом, говоря: «Садись в своем Киеве: ты старший брат, а мне пусть будет эта сторона Днепра».

1. Вспомните, от какого события вели счет годам в Древней Руси, и переведите в современное летоисчисление дату «6532 год». Приведите расчеты \_\_\_\_\_ (2 балла)

2. Какой город Руси Ярослав считал наиболее лояльным себе, исходя из текста? Почему? (приведите не менее одного положения) \_\_\_\_\_ (2 балла)

3. Что послужило непосредственной причиной восстания в Суздальской земле? \_\_\_\_\_ (1 балл)

4. Почему именно волхвы возглавили восстание в Суздале? \_\_\_\_\_ (2 балла)

5. На территории какого княжества жили упомянутые в тексте «северяне»? Ответ обоснуйте \_\_\_\_\_ (2 балла)

6. Как Русь была разделена между Ярославом и Мстиславом, согласно документу? \_\_\_\_\_ (1 балл)

**Задание № 3. Выберите по ОДНОМУ верному ответу в каждом задании и занесите выбранные ответы в таблицу [6 баллов].**

**3.1.** О каком восточнославянском племени в летописи сказано: «... иже сидят на верх Волги, и на верх Двины, и на верх Днепра, их же и город есть Смоленск?»

А. Вятичи.    Б. Дреговичи.    В. Кривичи.    Г. Поляне.

**3.2.** О каком сражении говорится в следующем описании: «...Святослав созвал знаменитых мужей... Когда он спросил собравшихся к нему, что должно делать; тогда некоторые





из них советовали... сесть на суда и спастись бегством... Другие, напротив того, советовали примириться с римлянами и таким образом, взявши с них клятву в верности, сохранить по крайней мере остаток войска: ибо трудно, говорили они, тайно уплыть, когда огненосные корабли с обеих сторон стоят у берегов и стерегут наши суда... Тогда Святослав, вздохнув от глубины сердца, сказал: «Погибнет слава, сопутница русского оружия, без труда побеждавшего соседние народы..., если мы теперь постыдно уступим римлянам... У нас нет обычая бегством спастись в отечество, но или жить победителями или, совершивши знаменитые подвиги, умереть со славою»?

А. Осада Константинополя 907 г. Б. Битва при Доростоле 971 г. В. Осада Корсуня 988 г.  
Г. Сражение близ Баку 1031 г.

**3.3.** Какой из этих храмов был построен в домонгольский период?

А. Храм Спаса на Нередице (Новгород). Б. Успенский собор (Дмитров). В. Троицкий собор Троице-Сергиевой Лавры. Г. Успенский собор на Городке (Звенигород).

**3.4.** Кто из участников междоусобной войны второй четверти XV в. смог стать великим князем Московским?

А. Василий I. Б. Дмитрий Шемяка. В. Софья Витовтовна. Г. Дмитрий Красный.

**3.5.** Какой из представленных отрывков является фрагментом Судебника 1497 г. Ивана III?

А. «Посадник при возведении на свою должность должен присягнуть в том, что судить ему справедливо, по присяге, не пользоваться городскими доходами, не мстить никому по вражде своим судом, не потакать на суде, дружа по родству, не наказывать правого, не миловать виноватого, а без разбора никого не осудить ни на суде [ни?] на вече».

Б. «А се даю сыну своему, князю Василью, Коломну со всеми волостями, и с тамгою, и с мыты, и с бортью, и с селы, и со всеми пошлинами. А волости Коломеньские: Мещерка, Раменка, Песочна, Брашева с селцем с Гвоздною и с Иванем, Гжеля».

В. «Если у господина пашенный закуп, а он погубит своего коня, то господину не надо платить ему, но если господин дал ему плуг и борону и от него же взимает купу, то, погубив их, он платит».

Г. «Крестьянам разрешается переходить из волости в волость, из села в село лишь в течение одного срока в году: за неделю до осеннего Юрьева дня и неделю после».



**3.6.** Какое из перечисленных произведений было создано древнерусским мастером слова Даниилом Заточником?

А. «Поучение детям». Б. «Моление». В. «Задонщина». Г. «Слово о законе и благодати».

Номер	3.1.	3.2.	3.3.	3.4.	3.5.	3.6.
Ответ (буква)						

**Задание № 4. Краеведение.** Расположите гербы городов Подмосковья в последовательности по времени основания города. Укажите названия этих городов [10 баллов].





**Названия городов:**

1.

М						К
---	--	--	--	--	--	---

2.

	О		О							
--	---	--	---	--	--	--	--	--	--	--

3.

Б								Ы
---	--	--	--	--	--	--	--	---

4.

			П		Х		
--	--	--	---	--	---	--	--

5.



		И	Т			
--	--	---	---	--	--	--

**Задание № 5. Выберите ТРИ верных ответа в каждом задании и занесите выбранные ответы в таблицу [9 баллов].**

**5.1.** Какие из этих событий произошли в правление Владимира Святого?

- а) поход на Корсунь;
- б) создание «Правды Русской»;
- в) основание Владимира-Волынского в Червенской Руси;
- г) крещение Руси;
- д) основание Юрьева в Прибалтике;
- е) разгром Святополка Окаянного на Альте.

**5.2.** Какие из указанных русских князей ездили в Золотую Орду?

- а) Александр Невский;    б) Борис Владимирович (Ростовский);
- в) Всеволод Большое Гнездо;    г) Даниил Галицкий;
- д) Мстислав Удалой;    е) Юрий Данилович.

**5.3.** Какие из указанных событий относятся к правлению Дмитрия Ивановича (Дмитрия Донского)?

- а) сражение на р. Воже;    б) стояние на р. Угре;    в) строительство первого каменного кремля; г) перенесение митрополии из Владимира в Москву;    д) осада Москвы литовским князем Ольгердом; е) возведение каменного Успенского собора в Кремле.

Номер	5.1.	5.2.	5.3.
Ответы (буквы)			

**Задание № 6. Внимательно изучите представленную ниже карту-схему по истории Древней Руси и ответьте на вопросы к ней [7 баллов].**

1. Назовите реку (цифра 1), на которой произошло сражение, план которого приведен на схеме. Укажите дату этого сражения (год) \_\_\_\_\_

\_\_\_\_\_ (2 балла)

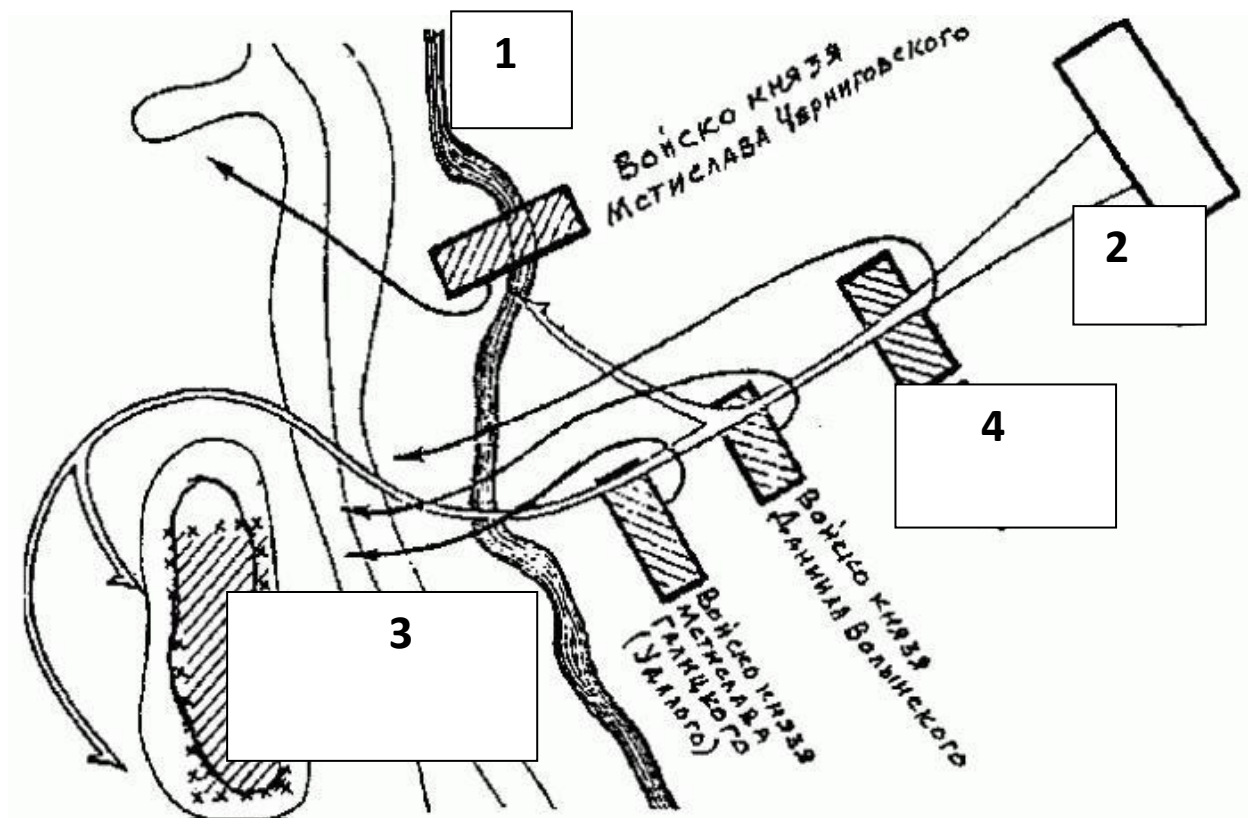
2. Кто (кочевой народ) был противником (цифра 2) русских князей в этом сражении? \_\_\_\_\_ (1 балл)

3. Какой князь возглавлял русские войска в этом сражении (его лагерь отмечен цифрой 3)? \_\_\_\_\_ (1 балл)

4. Назовите союзников русских князей в этом сражении (цифра 4)? \_\_\_\_\_ (1 балл)

5. Каковы были итоги данного сражения? Дайте краткую характеристику (не менее двух итогов) \_\_\_\_\_ (2 балла)





**Задание № 7. Приведите в соответствие термины и их определения. Результаты занесите в таблицу [5 баллов].**

- |              |   |
|--------------|---|
| А) Летопись  | 1) Роспись стен по сырой штукатурке                                     |
| Б) Житие     | 2) Славянская азбука, созданная византийским проповедником Константином |
| В) Фреска    | 3) Погодная запись событий  |
| Г) Глаголица | 4) Описание жизни и деяний святого                                      |
| Д) Миниатюра | 5) Стеклообразное покрытие между металлическими ленточками              |
|              | 6) Небольшой рисунок (обычно цветной) на странице рукописной книги      |

Буквы (термины)	Цифры (определения)
А	
Б	
В	
Г	
Д	

**Задание № 8** Дайте краткое обоснование ряда, исключив **ЛИШНИЙ** элемент [8 баллов].

8.1. 907 г., 941 г., 944 г., 970 г., 1085 г. – \_\_\_\_\_


\_\_\_\_\_



8.2. Женидьба на сестре хана Узбека, участие в разгроме Тверского восстания, присоединение Можайского княжества, захват Нижнего Новгорода, получение ярлыка на великое княжение Владимирское – \_\_\_\_\_

8.3. Архиепископ, дворянский голова, концевой староста, посадник, тысяцкий – \_\_\_\_\_

8.4.



**Задание № 9. Заполните пропуски в тексте. Обратите внимание, что одно и то же пропущенное имя в тексте повторяется трижды [8 баллов].**

В год \_\_\_\_\_ (1). <...> В том же году Александру Михайловичу было дано княжение, и он пришел из Орды и сел на великокняжеский престол. Потом, немного дней спустя, из-за умножения наших грехов, когда Бог позволил дьяволу вложить в сердце безбожных татар злую мысль... Беззаконный же \_\_\_\_\_ (2), разоритель христианства, пошел на Русь со многими татарами, и пришел в \_\_\_\_\_ (3), и выгнал великого князя с его двора, а сам поселился на великокняжеском дворе... И сотворил великое гонение на христиан - насилие, грабеж, избиение и поругание. Люди же городские... много раз жаловались великому князю, прося оборонить их. Он же, видя озлобление своих людей и не имея возможности их оборонить, велел им терпеть. И случилось так, что 15 августа, ранним утром,





когда собирается торг, некий диакон-тверянин, – прозвище ему Дудко, – повел кобылицу, молодую и очень тучную, напоить водой в Волге. Татары же, увидев ее, отняли. Диакон же очень огорчился и стал вопить: «Люди тверские, не выдавайте!» И началась между ними драка. Татары же, надеясь на свою власть, пустили в ход мечи... И ударили во все колокола, стали вечем, и восстал город... И возник мятеж, и кликнули тверичи и стали избивать татар, где кого поймают, пока не убили самого \_\_\_\_\_ (2). Убивали же всех подряд, не оставили и вестника, кроме пастухов, пасших на поле стада коней. Те взяли лучших жеребцов и быстро бежали в Москву, а оттуда в \_\_\_\_\_ (4), и там возвестили о кончине \_\_\_\_\_ (2) <...>

**Задание № 10. Расположите в хронологической последовательности (по времени создания) литературные произведения [5 баллов].**

- 1) «Задонщина»
- 2) «Слово о полку Игореве»
- 3) «Хождение за три моря»
- 4) «Слово о законе и благодати»
- 5) «Поучение детям»



**Задание № 11. Внимательно изучите данные ниже изображения и ответьте на вопросы к ней [9 баллов].**



А.

1. Взятие какого русского города монголами представлено на изображении «А»? Когда (год) произошло это событие? \_\_\_\_\_ (2 балла)

2. Как звали монгольского хана, возглавлявшего войска в этом походе? \_\_\_\_\_ (1 балл)

3. Столицей какой русской земли (княжества) являлся данный город? \_\_\_\_\_ (1 балл)



4. Как называются ворота, которые с двух сторон на изображении обходят штурмующие? \_\_\_\_\_ (1 балл)
5. Как называется кафедральный собор, виднеющийся в отдалении от стен? \_\_\_\_\_ (1 балл)



- Б.
1. Представитель какого военно-служилого сословия – всадник – изображен на картине? Как называлась его земельная усадьба (укажите термин)? \_\_\_\_\_ (2 балла)
2. Как назывались изображенные около всадника его военные слуги-пехотинцы (термин)? \_\_\_\_\_ (1 балл)

**Задание № 12.** На территории каких республик СССР находились перечисленные ниже советские города и крепости-герои? Укажите названия этих республик. Ответ занесите в таблицу [11 баллов].

1. Одесса. 2. Тула. 3. Севастополь. 4. Новороссийск. 5. Мурманск. 6. Керчь. 7. Смоленск. 8. Брестская крепость.

Название республики СССР	Город (цифра)

**Итого – 100 баллов**

**Время выполнения – 2 часа (120 минут)**

**Желаем удачи!**

