

Телепроект «МОЯ ШКОЛА в online»

ГОТОВИМСЯ К ЕГЭ

ОБЩЕСТВОЗНАНИЕ

11 класс

Урок №3

Часть 1. Тематический
раздел «Экономика»

Щенина Ольга Геннадьевна,

Председатель РПК ЕГЭ по обществознанию Московской области. Кандидат политических наук. Ведущий доцент. Ведущий научный сотрудник отдела исследования социально- политических отношений Центра политологии и политической социологии Института социологии ФНИСЦ РАН, Учитель обществознания "Лицей 5" г.о. Подольск. Доцент кафедры в АСОУ

Что мы сегодня будем изучать?

**1. Тематический раздел
«Экономика»: теория и практика**

**2. Часть 1. Типы и виды
заданий раздела «Экономика»**

- **Правильное выполнение заданий 7–9 оценивается 2 баллами.**
- **Эти задания оцениваются следующим образом:**
- **полное правильное выполнение задания – 2 балла;**
- **выполнение задания с одной ошибкой (одной неверно указанной, в том числе лишней, цифрой наряду со всеми верными цифрами) ИЛИ неполное выполнение задания (отсутствие одной необходимой цифры) – 1 балл;**

- неверное выполнение задания (при указании двух или более ошибочных цифр) – 0 баллов.
- Задание 10 оценивается 1 баллом. Задание считается выполненным верно, если ответ записан в той форме, которая указана в инструкции по выполнению задания.

2.1 Экономика и экономическая наука

**2.2 Факторы производства и факторные
доходы**

2.3 Экономические системы

2.4 Рынок и рыночный механизм.

Спрос и предложение

2.5 Постоянные и переменные затраты

2.6 Финансовые институты.

Банковская система

**2.7 Основные источники
финансирования бизнеса**

2.8 Ценные бумаги

2.9 Рынок труда. Безработица

**2.10 Виды, причины и последствия
инфляции**

**2.11 Экономический рост и развитие.
Понятие ВВП**

2.12 Роль государства в экономике

2.13 Налоги

2.14 Государственный бюджет

2.15 Мировая экономика

2.16 Рациональное экономическое поведение собственника, работника, потребителя, семьянина, гражданина

Задание 7

**Выберите верные суждения
об экономическом росте и запишите **цифры**,
под которыми они указаны.**

Стабильный экономический рост возможен за счёт роста

1) производительности труда, включая внедрение инноваций.

Одним из интенсивных факторов экономического роста

2) является повышение квалификации работников предприятия.

Экономический рост – это долгосрочная тенденция

3) увеличения реального ВВП.

Экстенсивный тип экономического роста

4) обеспечивается за счёт более рационального использования прежнего объёма ресурсов.

К интенсивным факторам экономического роста относят

5) рост добычи полезных ископаемых.

Выберите верные суждения о роли государства в экономике и запишите **цифры**, под которыми они указаны.

- 1) Одной из экономических функций государства является инвестирование средств в проекты государственной важности.

- 2) В экономике любого типа государство является собственником всех средств производства.

- 3) Политика государства, нацеленная на сокращение инфляции, ликвидацию безработицы, называется антикоррупционная.

- 4) В случае спада экономической активности государство осуществляет стимулирующую политику.

- 5) В рыночной экономике государство выполняет функцию организации производства общественных благ.

Выберите верные суждения о финансовых институтах и запишите **цифры**, под которыми они указаны.

- 1) Коммерческие банки занимаются производством материальных благ, торговлей и страхованием имущества

- 2) Паевые инвестиционные фонды объединяют средства для совместного приобретения активов и раздела связанных с этим рисков, прибыли или убытков.

- 3) Центральный банк обслуживает международные государственные финансовые операции.

- 4) Центральный банк устанавливает для коммерческих банков нормы обязательных резервов.

- 5) Коммерческие банки осуществляют эмиссию денег.

Выберите верные суждения о факторах производства и факторных доходах и запишите **цифры**, под которыми они указаны.

- 1) Доходом собственника трудовых ресурсов является заработная плата.

- 2) Собственник земельных ресурсов получает доход, называемый рентой.

- 3) Капитал как фактор производства включает в себя созданные человеком производственные мощности.

- 4) Прибылью называют разницу между постоянными и переменными издержками производства.

- 5) Факторным доходом от использования предпринимательских способностей является предложение.

Выберите верные суждения об экономическом росте и развитии и запишите **цифры, под которыми они указаны.**

- 1) Экономический рост – это долгосрочная тенденция увеличения реального ВВП.

- 2) К факторам экстенсивного экономического роста относят использование достижений научно-технического прогресса.

- 3) От экономического роста зависит богатство страны и благосостояние каждого гражданина.

- 4) Рост объёмов потребления сырья, топлива является фактором интенсивного роста.

- 5) Интенсивный экономический рост происходит на основе эффективного использования основных фондов.

Выберите верные суждения о факторах производства и факторных доходах и запишите **цифры**, под которыми они указаны.

- 1) Доход предпринимателя зависит только от спроса на его товар.

- 2) Труд как фактор производства предполагает непосредственное использование физических и умственных способностей людей в процессе создания экономических благ.

- 3) К факторам производства относят спрос, предложение и конкуренцию.

- 4) Капитал как фактор производства включает в себя созданные человеком здания, оборудования, транспорт и т.п.

- 5) Предпринимательство – это инициативная рисковая деятельность, благодаря которой происходит соединение всех факторов производства.

Задание 8

Установите соответствие между примерами и видами безработицы: к каждой позиции, данной в первом столбце, подберите соответствующую позицию из второго столбца

	ПРИМЕРЫ		ВИДЫ БЕЗРАБОТИЦЫ
А)	Выпускники творческих вузов долго ищут работу по специальности, не соглашаясь ни на какую другую.	1)	фрикционная
Б)	В связи с экономическим кризисом фирмы, производящие различные товары и услуги, сократили численность персонала.	2)	сезонная
В)	В связи с изменением спроса на энергоресурсы многие шахты закрылись, а шахтёры остались без работы.	3)	структурная
Г)	Полгода жители курортного городка обслуживают туристов, а в остальное время большинство из них не работает.	4)	циклическая
Д)	Безработные отказываются от рабочих вакансий и просят подобрать им работу менеджеров.		

Установите соответствие между примерами и видами источников финансирования бизнеса: к каждой позиции, данной в первом столбце, подберите соответствующую позицию из второго столбца

	ПРИМЕРЫ		ВИДЫ ИСТОЧНИКОВ ФИНАНСИРОВАНИЯ БИЗНЕСА
А)	получение банковского кредита	1)	внутренние
Б)	аккумуляция амортизационных отчислений	2)	внешние
В)	использование части прибыли фирмы для покупки нового оборудования		
Г)	средства от государственного заказа продукции		
Д)	привлечение средств инвесторов		

Установите соответствие между примерами и видами налогов и сборов согласно Налоговому кодексу РФ: к каждой позиции, данной в первом столбце, подберите соответствующую позицию из второго столбца.

	ПРИМЕРЫ		ВИДЫ НАЛОГОВ И СБОРОВ В РФ
А)	торговый сбор	1)	местные
Б)	государственная пошлина	2)	региональные
В)	налог на добавленную стоимость	3)	федеральные
Г)	налог на имущество организаций	4)	циклическая
Д)	транспортный налог		

Установите соответствие между факторами и типами экономического роста: к каждой позиции, данной в первом столбце, подберите соответствующую позицию из второго столбца.

	ПРИМЕРЫ		ТИПЫ ЭКОНОМИЧЕСКОГО РОСТА
А)	повышение квалификации работников	1)	ЭКСТЕНСИВНЫЙ
Б)	замена производственной техники более современной	2)	ИНТЕНСИВНЫЙ
В)	увеличение численности работников		
Г)	строительство новых предприятий, выпускающих аналогичную продукцию		
Д)	расширение производственных площадей		

Установите соответствие между примерами и видами налогов и сборов согласно Налоговому кодексу РФ: к каждой позиции, данной в первом столбце, подберите соответствующую позицию из второго столбца.

	ПРИМЕРЫ		ВИДЫ НАЛОГОВ И СБОРОВ В РФ
А)	земельный налог	1)	федеральные
Б)	налог на доходы физических лиц	2)	региональные
В)	транспортный налог	3)	местные
Г)	государственная пошлина		
Д)	налог на добавленную стоимость		

Установите соответствие между примерами и видами налогов и сборов согласно Налоговому кодексу РФ: к каждой позиции, данной в первом столбце, подберите соответствующую позицию из второго столбца.

	ПРИМЕРЫ		ВИДЫ НАЛОГОВ И СБОРОВ В РФ
А)	транспортный налог	1)	федеральные
Б)	налог на доходы физических лиц	2)	местные
В)	торговый сбор	3)	Региональные
Г)	налог на имущество организаций		
Д)	государственная пошлина		

Задание 9

Экономика страны Z основана на крупном машинном производстве, в ней доминирует тяжёлая промышленность. Какие из перечисленных признаков позволяют сделать вывод о том, что в стране Z рыночная экономика? Запишите **цифры**, под которыми они указаны.

1)	стабильность доходов населения
2)	гарантия свободы частной хозяйственной инициативы
3)	свободное ценообразование
4)	конкуренция производителей
5)	необходимость соблюдать трудовое законодательство
6)	плановое развитие экономики

В стране Z основным собственником ресурсов и производственных мощностей является государство. Какие из перечисленных признаков позволяют сделать вывод о том, что в стране Z командная (плановая) экономика? Запишите **цифры**, под которыми указаны эти признаки.

1)	регулирование производства на основе хозяйственного опыта предков
2)	действие механизмов спроса и предложения
3)	конкуренция производителей
4)	установление государством объёмов производства на каждом предприятии
5)	централизованное распределение факторов производства
6)	директивное ценообразование

Фирма Y – ателье по пошиву свадебных платьев. Найдите в приведённом списке примеры переменных издержек фирмы Y в краткосрочном периоде и запишите **цифры**, под которыми они указаны.

1)	арендная плата за помещение ателье
2)	страхование имущества фирмы
3)	оплата потреблённой электроэнергии
4)	приобретение тканей, ниток, фурнитуры
5)	выплата сдельной заработной платы работникам
6)	погашение процентов по ранее взятому кредиту

В государстве Z большинство предприятий находятся в частной собственности, но действуют государственные и муниципальные предприятия. Какие из перечисленных признаков позволяют сделать вывод о том, что в стране Z рыночная экономика? Запишите **цифры**, под которыми они указаны.

1)	Цены на товары и услуги определяются соотношением спроса и предложения.
2)	Государство осуществляет централизованное распределение ресурсов.
3)	Предприятиям не приходится решать проблему ограниченности ресурсов.
4)	Производители товаров и услуг конкурируют между собой за спрос потребителей.
5)	Каждый гражданин имеет право на свободное использование своих способностей и имущества для предпринимательской и иной не запрещённой законом экономической деятельности.
6)	В расчётах между предприятиями активно применяется безналичная форма.

Фирма оказывает услуги по уборке помещений. Найдите в приведённом списке примеры постоянных издержек фирмы в краткосрочном периоде. Запишите **цифры**, под которыми они указаны.

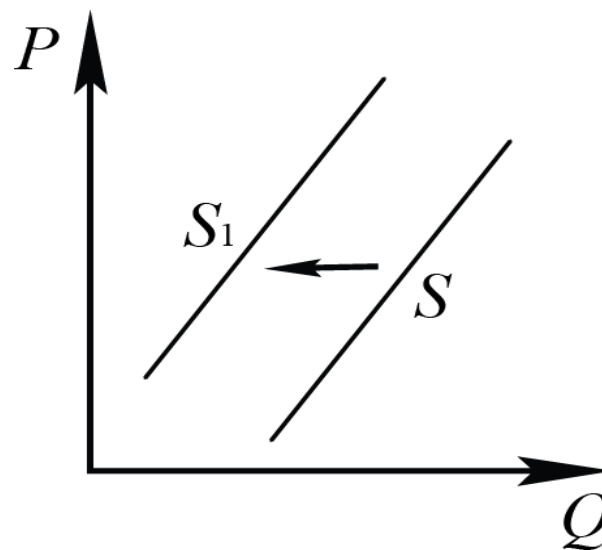
1)	выплата сдельной заработной платы работникам
2)	оплата потреблённой электроэнергии
3)	погашение процентов по ранее взятому кредиту
4)	приобретение моющих средств
5)	арендная плата за офис фирмы
6)	выплата окладов администрации

В стране Z активно развивается крупное машинное производство, растут города. Какие из перечисленных признаков позволяют сделать вывод о том, что в стране Z командная (плановая) экономика? Запишите **цифры**, под которыми они указаны.

1)	наличие трудового законодательства
2)	централизованное распределение ресурсов
3)	директивное ценообразование
4)	государственная собственность на средства производства
5)	необходимость решать проблему ограниченности ресурсов
6)	использование безналичной формы расчётов между предприятиями

Задание 10

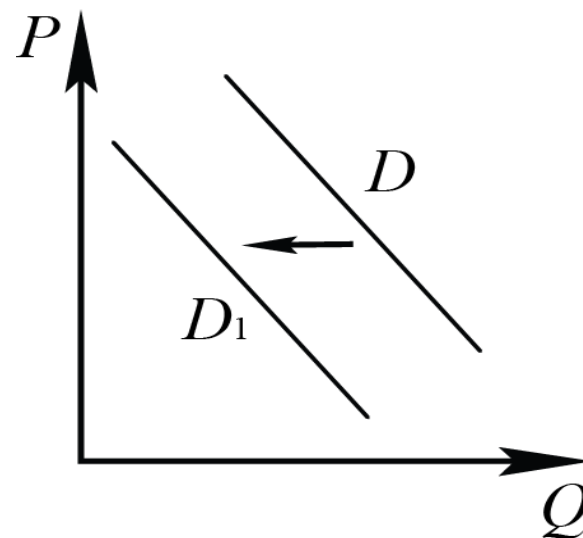
На рисунке отражено изменение предложения картофеля на соответствующем рынке: линия предложения S переместилась в новое положение – S_1 .
(P – цена; Q – количество.)



Какие из перечисленных факторов могут вызвать такое изменение? Запишите **цифры**, под которыми они указаны.

1)	внедрение более производительной технологии выращивания картофеля
2)	сокращение государственных субсидий для производителей картофеля
3)	аномально засушливое лето в регионе, где выращивается картофель
4)	рост издержек, связанных с выращиванием картофеля
5)	удешевление топлива для сельскохозяйственной техники

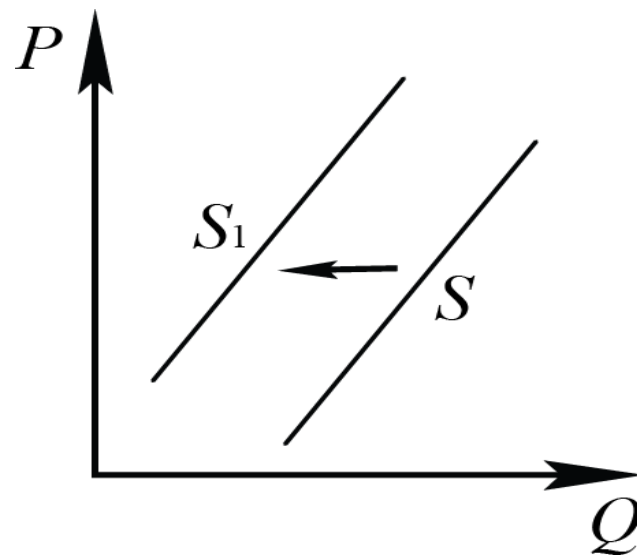
На рисунке отражено изменение спроса на новый шампунь для волос на соответствующем рынке: линия спроса D переместилась в новое положение – D_1 . (P – цена; Q – количество.)



Какие из перечисленных факторов могут вызвать такое изменение? Запишите **цифры**, под которыми они указаны.

1)	появление информации в Интернете о вреде для здоровья некоторых ингредиентов нового шампуня для волос
2)	уменьшение числа покупателей данного товара
3)	снижение расходов производителей шампуней для волос
4)	плохие отзывы покупателей
5)	уменьшение количества продавцов шампуней для волос

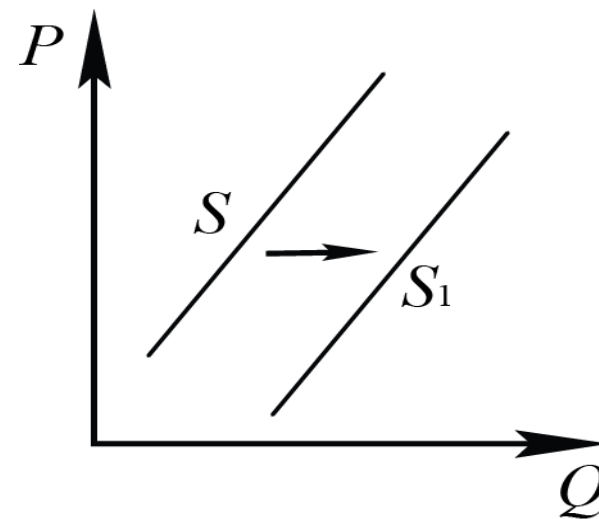
На рисунке отражено изменение предложения шоколада на соответствующем рынке: линия предложения S переместилась в новое положение – S_1 .
(P – цена; Q – количество.)



Какие из перечисленных факторов могут вызвать такое изменение? Запишите **цифры**, под которыми они указаны.

1)	ожидаемый производителями рост потребления шоколада
2)	хороший урожай какао-бобов
3)	удорожание транспортных расходов производителя шоколада
4)	банкротство крупного производителя шоколадных изделий
5)	рост налогов на производителей шоколада

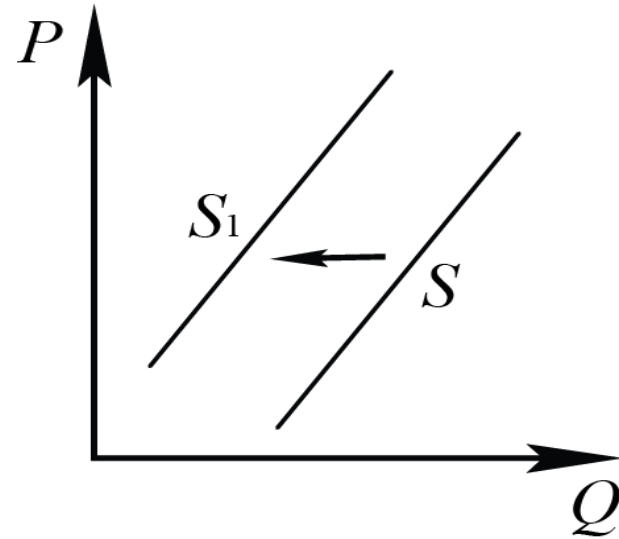
На рисунке отражено изменение предложения стационарных компьютеров на соответствующем рынке: линия предложения S переместилась в новое положение – S_1 . (P – цена; Q – количество.)



Какие из перечисленных факторов могут вызвать такое изменение? Запишите **цифры**, под которыми они указаны.

1)	введение налоговых льгот для производителей стационарных компьютеров
2)	уменьшение стоимости комплектующих для сборки стационарного компьютера
3)	ожидание дальнейшего уменьшения покупок стационарных компьютеров
4)	увеличение количества продавцов компьютерной техники
5)	появление предпочтений у молодёжи пользоваться ноутбуками и планшетами

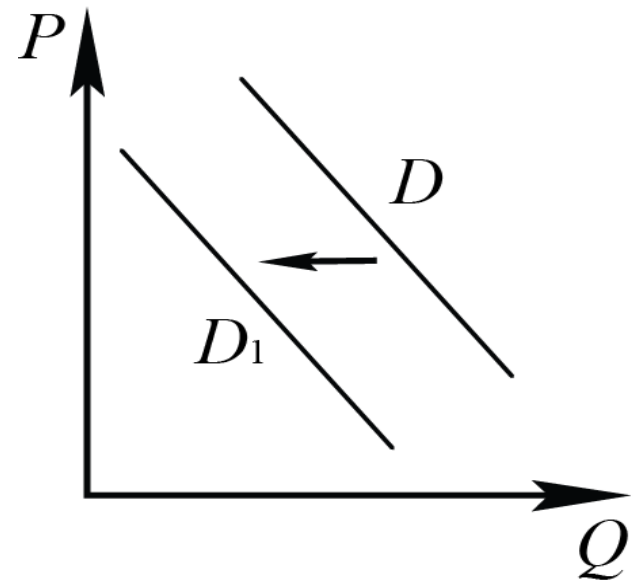
На рисунке отражено изменение предложения товаров бытовой химии на соответствующем рынке: линия предложения S переместилась в новое положение – S_1 .
(P – цена; Q – количество.)



Какие из перечисленных факторов могут вызвать такое изменение? Запишите **цифры**, под которыми они указаны.

1)	рост популярности использования товаров бытовой химии среди населения
2)	сокращение количества производителей товаров бытовой химии
3)	рост ставок налогов и сборов на производителей товаров бытовой химии
4)	предоставление субсидий производителям товаров бытовой химии
5)	рост издержек производителей товаров бытовой химии

На рисунке отражено изменение спроса на школьные канцелярские товары на соответствующем рынке: линия спроса D переместилась в новое положение – D_1 .
(P – цена; Q – количество.)



Какие из перечисленных факторов могут вызвать такое изменение? Запишите **цифры**, под которыми они указаны.

1)	увеличение количества производителей канцелярских товаров
2)	уменьшение издержек производства
3)	активное использование электронных гаджетов в школе
4)	завершение учебного года
5)	уменьшение в структуре населения доли школьников

- Методическую помощь выпускникам при подготовке к ЕГЭ могут оказать материалы с сайта ФИПИ (www.fipi.ru):
- документы, определяющие структуру и содержание КИМ ЕГЭ 2020 г.;
- открытый банк заданий ЕГЭ;
- учебно-методические материалы для председателей и членов региональных предметных комиссий по проверке выполнения заданий с развернутым ответом экзаменационных работ ЕГЭ;

- Методические рекомендации на основе анализа типичных ошибок участников ЕГЭ прошлых лет (2015–2019 гг.);
- журнал «Педагогические измерения»;
- Youtube-канал Рособнадзора (видеоконсультации по подготовке к ЕГЭ 2016– 2019 гг.), материалы сайта ФИПИ (<http://fipi.ru/ege-i-gve-11/daydzhest-ege>).

ВОПРОС

Задание предполагает умение осуществлять поиск социальной информации, представленной в различных знаковых системах (рисунок).

**О КАКОМ ЗАДАНИИ ИДЕТ РЕЧЬ?
УКАЖИЕ НОМЕР ЗАДАНИЯ.**