

Телепроект «МОЯ ШКОЛА в online»

ГОТОВИМСЯ К ЕГЭ

География

11 класс

Урок № 14

Особенности природно-ресурсного потенциала, населения, хозяйства, культуры крупных стран мира.
Примеры заданий.

Солодухина Наталия Николаевна,
председатель предметной комиссии ЕГЭ
по географии Московской области,
доцент кафедры непрерывного образования МГОУ

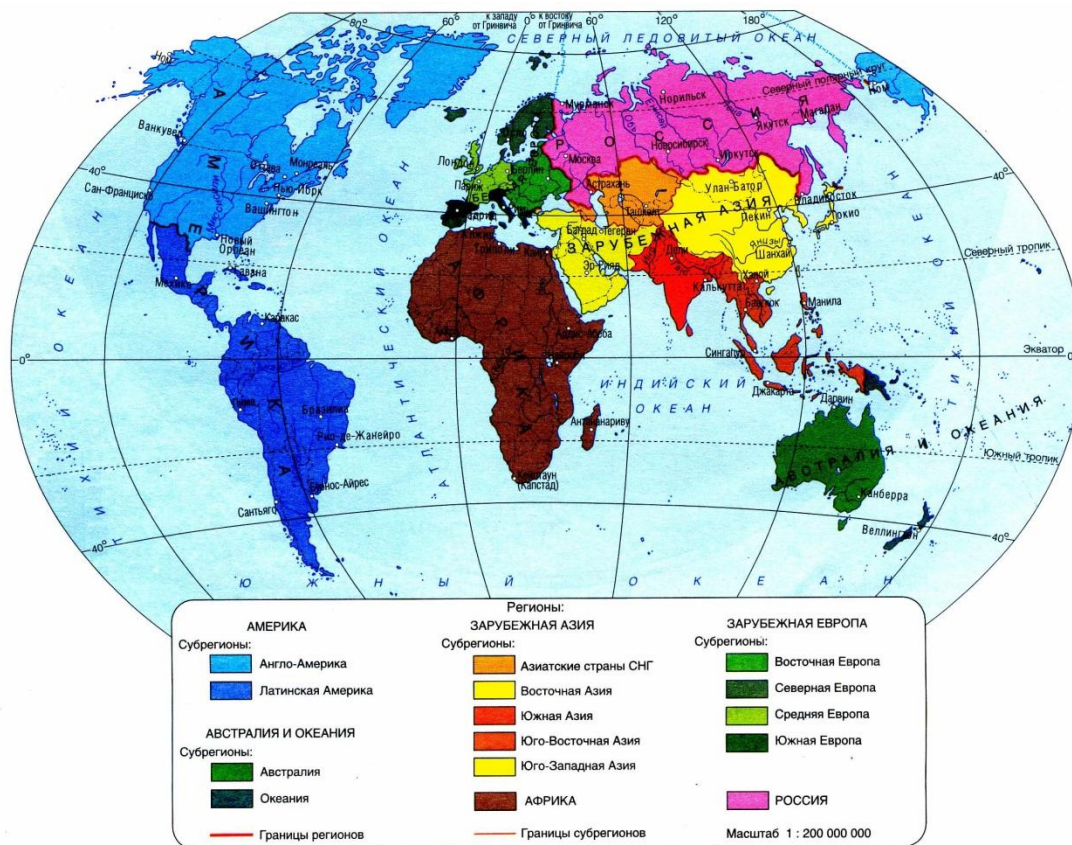
Что мы сегодня будем изучать?

**Особенности природно-ресурсного
потенциала, населения, культуры
крупных стран мира.**

**Комплексную характеристику
страны.**

Примеры заданий.

Регион (лат. regio — «страна», «область») — определённая территория в конкретных границах, обладающая целостностью и взаимосвязью её составных элементов.



Географические регионы мира характеризуются особенностями своего географического положения, природных условий и ресурсов, спецификой исторического и экономического развития. Различия в природных условиях, экономическая и культурная специфика повлияли на формирование внутри регионов более мелких районов — **субрегионов.**

РЕГИОН → СУБРЕГИОН → СТРАНА

Географическая специфика региона - это особенности размещения населения и хозяйства на разных этапах исторического развития и характеристика их современного пространственного рисунка.

Доля регионов мира и России (в % к мировому итогу)

Регионы	Территория	Численность населения	ВВП	Экспорт
Америка	32	14	31	19
Зарубежная Европа	4	8	23	44
Зарубежная Азия	23	60	39	29
Африка	22	15	4	4
Австралия и Океания	6	Менее 1	1	1
Мир	100	100	100	100
В т.ч. Россия	13	2	2	2

Субрегионы Латинской Америки



- Традиционно в Латинской Америке выделяют 4 субрегиона:
1. Мексика
 2. Страны Центральной Америки и Вест-Индия
 3. Андские страны (Венесуэла, Колумбия, Эквадор, Перу, Боливия, Чили)
 4. Страны бассейна Амазонки и Ла-Платы (Бразилия, Парагвай, Уругвай, Аргентина)

Важнейшие показатели:

- Территория
- Население
- Природно-ресурсный потенциал
- ВВП
- Внешние связи

Страна – территория, имеющая определенные границы.

Комплексная характеристика страны включает:

1. Основные черты географического положения.
2. Хозяйственная оценка природных условий и ресурсов.
3. Основные черты воспроизводства, структуры и размещения населения.
4. Общая характеристика хозяйства.
5. Отрасли международной специализации хозяйства и их главные районы и центры: промышленность; сельское хозяйство; транспорт; непроизводственная сфера.
6. Основные черты размещения промышленности.
7. Основные черты размещения сельского хозяйства.
8. Основные черты географии транспорта.
9. Главные экономические районы.
10. Роль и география внешних экономических связей.
11. Проблемы и перспективы развития страны.

Основные черты географического положения



Федеративная Республика Бразилия – **самое большое** по площади и населению **государство в Латинской Америке**. Находится на **пятом** месте среди стран мира по **площади** и по **численности** населения. Занимает восточную и центральную часть материка. Граничит со всеми государствами Южной Америки, кроме Чили и Эквадора.

Протяжённость сухопутных границ – около 16 тыс. км. С востока омывается Атлантическим океаном, протяжённость береговой линии – 7,4 тыс. км. Наибольшая протяжённость с севера на юг – 4320 км, с востока на запад – 4328 км.

Пересекается **экватором** в северной части и **южным тропиком** – в южной.

БРАЗИЛИЯ

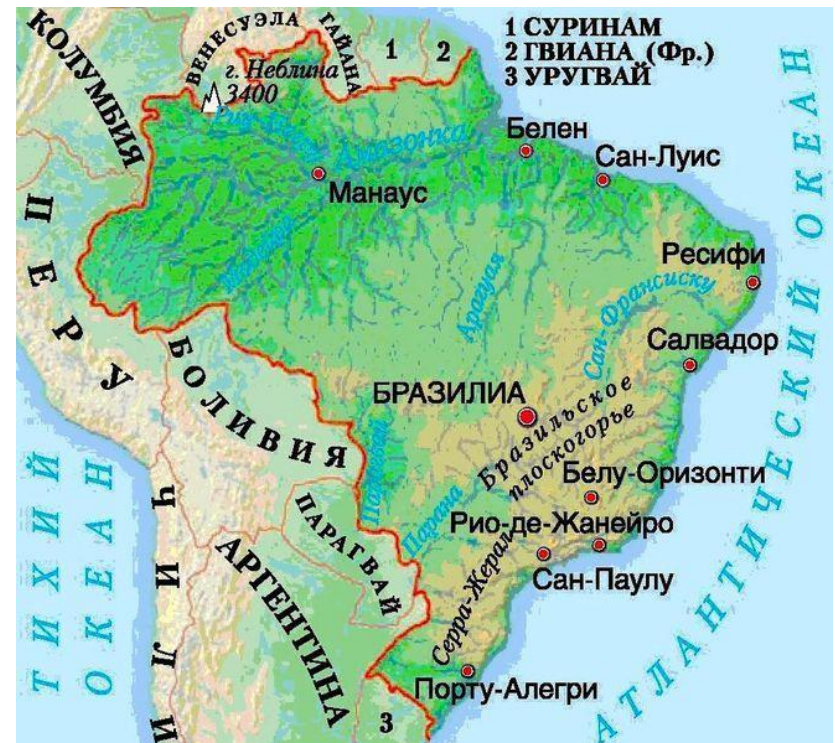
Общие сведения:

Площадь: 8,5 млн кв. км

Население 210 млн чел.

Столица: Бразилиа

Официальный язык:
португальский



Природные условия и ресурсы

Бразилия – одна из наиболее обеспеченных природными ресурсами стран мира:

- запасы пресных вод
- гидроэнергетические ресурсы
- лесные ресурсы
- агроклиматические ресурсы
- почвенные
- минеральные:
 - железные руды;
 - бокситы;
 - марганцевые руды;
 - оловянные руды;
 - вольфрамовые руды;
 - никелевые;
 - золото

Территорию Бразилии делят на две природные области: равнины Амазонии, занятые **экваториальными лесами** на севере и остальные 2/3 территории страны с тропическими ландшафтами Бразильского плоскогорья. Бразилия находится в трёх климатических поясах: экваториальном, субэкваториальном и тропическом. Крупнейшая река – **Амазонка**. Реки Бразильского плоскогорья обладают значительным гидропотенциалом.



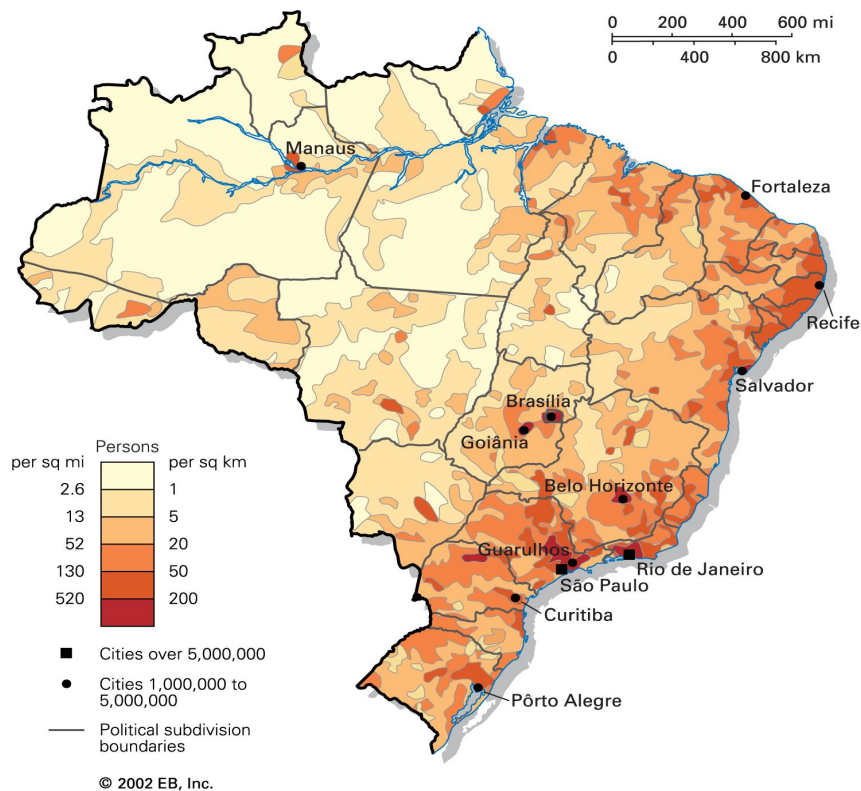
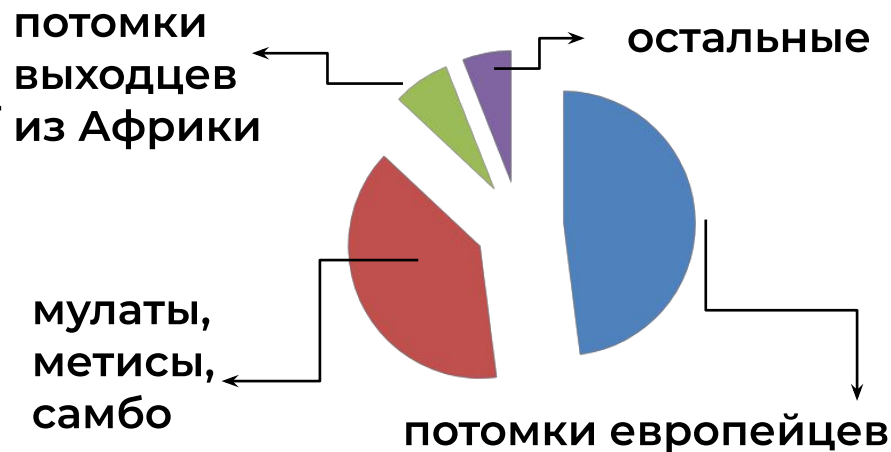
Население

На территории Бразилии проживает примерно половина населения Южной Америки, или треть населения Латинской Америки.

Прирост населения составляет около 1 % (10 промилле).

Бразильцы – этнос Бразилии со сложным **этническим и расовым составом**.

Основная религия – **католицизм**.
Население размещено крайне неравномерно. Средняя плотность населения составляет 22 чел/кв. км. Более 75 % населения проживает **вдоль Атлантического побережья**.
Уровень урбанизации превышает 80 %, особенно велика концентрация населения в городских агломерациях: **Сан-Паулу и Рио-де-Жанейро**.



Промышленность



Отрасли специализации:

Обрабатывающая промышленность

1. Машиностроение: **автомобилестроение, электроника, самолётостроение, судостроение.**
2. Metallurgy: производство **алюминия, стали.**
3. Электроэнергетика базируется на **ГЭС**, которые являются одними из самых крупных в мире.
4. Химическая: **производство этилового спирта**, минеральных удобрений, нефтехимия.
5. **Горнодобывающая промышленность**: добыча руд чёрных и цветных металлов.

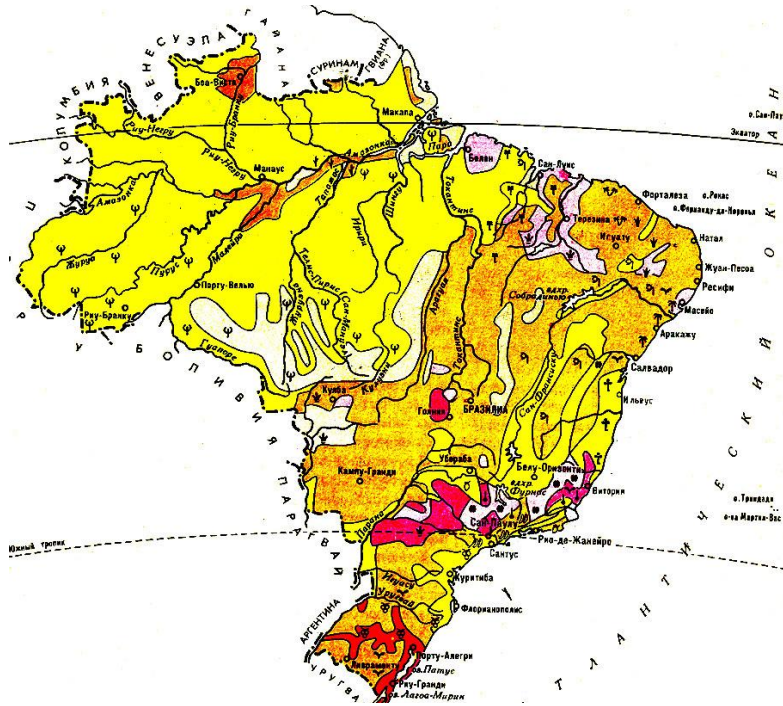
Крупнейшие промышленные центры:

Сан-Паулу
Рио-де-Жанейро
Белу-Оризонти

Сельское хозяйство

Бразилия – одна из мировых аграрных держав: по объёму произведённой продукции занимает 4 место в мире

По запасам древесины ценных пород Бразилия занимает первое место в мире. Большое значение имеет сбор дикорастущего каучука, бразильского ореха, карнаубского воска, плодов пальмы бабасу и масличного дерева.



- Сельское хозяйство**
- Платтации кофе
 - Платтации технических культур (сахарный тростник, хлопчатник, табак) бананы и цитрусовые
 - Зерновые культуры (пшеница, кукуруза), масличные культуры и пастбищное животноводство (крупный рогатый скот и овцы)
 - Разные зерновые культуры (рис, кукуруза), маниок, фасоль и пастбищное животноводство
 - Пастбищное животноводство (крупный рогатый скот)
 - Тропические леса с очагами лесного хозяйства и подсечно-огневого земледелия
 - Малоиспользуемые и неиспользуемые земли
- Районы распространения**
- | | |
|---|---|
| <ul style="list-style-type: none"> ✦ риса ↓ сахарного тростника † масличной пальмы (бабасу) ↗ в оковой пальмы (карнауба) ✦ кокосовой пальмы ✦ масличное дерево (ойтисики) | <ul style="list-style-type: none"> ✦ джута ✦ хлопчатника ✦ каучуконосов ✦ табака ✦ какао ✦ кофе ✦ бананов ✦ цитрусовых ✦ винограда |
|---|---|

Место в мире

	первое	второе	третье	четвертое
Кофе				
Сахарный тростник				
Апельсины				
		Соя	Кукуруза	Бананы
		Поголовье крупного рогатого скота	Поголовье свиней	Поголовье птицы

Транспорт


Для Бразилии характерна **слабо** развитая **транспортная сеть**, причём она имеет ярко выраженную **колониальную конфигурацию**. Основная часть **железных дорог и автомагистралей** расположены на **востоке** страны, вдоль побережья Атлантического океана.

Для внутренних регионов важную роль играет **речной транспорт**. Крупный речной порт на Амазонке – **Манаус**. Широко развито воздушное сообщение между городами.



Внешние экономические связи осуществляются **морским и воздушным транспортом**. Крупнейшие морские порты: **Сантус, Итаки, Тубаран**.

Туризм - быстроразвивающийся сектор экономики Бразилии.



Экономические районы Бразилии

Юго-Восток	Историческое и экономическое ядро. Индустриальный треугольник: Сан-Паулу – Рио-де-Жанейро – Белу-Оризонти, производство более 80 % промышленной продукции , развито сельское хозяйство: кофе, сахар, соя и продукция животноводства
Север	Бассейн Амазонки, преобладает сельское хозяйство: выращивают сахарный тростник, хлопчатник, какао, развито животноводство
Северо-Восток	Сельскохозяйственный район, специализируется на выращивании сахарного тростника
Центральный Запад	Сельскохозяйственный район с преобладанием животноводства
Юг	Сельскохозяйственный район, производящий рис, пшеницу, сою, вино и мясо



Задание № 24

Определите страну по её краткому описанию.

Территория этой страны находится на **нескольких тысячах островов**, расположенных в акватории **двух океанов**. Разведаны месторождения **нефти, природного газа, угля, руд чёрных и цветных металлов**. Большая часть территории страны расположена в природной зоне **влажных экваториальных лесов**. По **численности населения** входит в **первую пятёрку** стран мира. Большинство верующих исповедуют **ислам**. К основным сельскохозяйственным культурам относятся **зерновые, каучуконосовые, чай, кофе, табак, какао, сизаль**.

Алгоритм выполнения задания:

- 1) Внимательно прочитайте текст задания.
- 2) В тексте выделите ключевые слова, которые помогут вам определить название государства.
- 3) Опираясь на ключевые слова определите группы стран, которые подходят под описание, постепенно исключая лишние страны, добавляя ключевые слова. Например, по численности населения входит в первую 5 стран мира: Китай, Индия, США, Индонезия, Бразилия. Следующее предложение: территория на нескольких тысячах островов – среди перечисленных стран только Индонезия подходит этому условию. Проверяя остальные ключевые слова можно сделать окончательный вывод: Индонезия.

Ответ: **Индонезия**

Определите страну по её краткому описанию.

Эта страна по форме правления – **конституционная монархия**. Является членом **Европейского Союза**. Особенностью её географического положения является наличие **выхода к морям**. Большая часть территории занята **хвойными лесами**. Страна богата **железными рудами**, которые экспортирует. Ведущие отрасли промышленности: **электроэнергетика** (производство электроэнергии в основном на АЭС и ГЭС); **чёрная и цветная металлургия**; машиностроение (**электротехника, автомобилестроение, судостроение** и др.). Сельское хозяйство отличается высокой продуктивностью; основное направление – **мясо-молочное скотоводство**.

Алгоритм выполнения задания:

- 1) Внимательно прочитайте текст задания.
- 2) В тексте выделите ключевые слова, которые помогут вам определить название государства.
- 3) Опираясь на ключевые слова определите группы стран, которые подходят под описание, постепенно исключая лишние страны, добавляя ключевые слова. Например, территория занята хвойными лесами – Скандинавские страны: Швеция, Норвегия, Финляндия, конституционная монархия: Швеция, Норвегия, член ЕС - Швеция. Проверя остальные ключевые слова, можно сделать окончательный вывод: Швеция

Ответ: **Швеция**

Определите страну по её краткому описанию.

Эта страна по форме правления является **республикой**. Её территория полностью расположена в пределах **субэкваториального климатического пояса**. Большая часть её территории находится в **дельте одной из крупных рек Азии**. По численности населения входит в **первую десятку стран мира**, а показатель средней плотности населения – один из самых высоких в мире. Более половины населения составляют **сельские жители**. В стране благоприятные условия для **производства риса, джута, сахарного тростника**. Религией большинства верующих является **ислам**.

Алгоритм выполнения задания:

- 1) Внимательно прочитайте текст задания.
- 2) В тексте выделите ключевые слова, которые помогут вам определить название государства.
- 3) Опираясь на ключевые слова, определите группы стран, которые подходят под описание, постепенно исключая лишние страны, добавляя ключевые слова. Например, входит в первую десятку стран мира и расположена в Азии – это Китай, Индия, Индонезия, Бангладеш, Япония. Следующее предложение – является республикой, исключаем Японию. Религия большинства верующих - ислам, исключаем Китай и Индию, остаются страны: Бангладеш и Индонезия. Полностью в пределах субэкваториального климатического пояса – Бангладеш. Проверая остальные ключевые слова, можно сделать окончательный вывод: Бангладеш

Ответ: **Бангладеш**

Задание №15

Какие из утверждений о Японии верны? Запишите **все цифры**, под которыми они указаны.

- 1) По форме правления страна является монархией.
- 2) Япония относится к числу стран с наиболее низким естественным приростом населения.
- 3) Страна относится к числу крупнейших экспортёров различных видов сырья.
- 4) Территория страны расположена в нескольких климатических поясах.

Алгоритм выполнения задания:

1. Внимательно прочитайте текст задания, обратите внимание: необходимо выбрать все верные утверждения.
2. Проанализируйте каждое высказывание.
3. Запишите ответ: 124

Какие из утверждений о Китае верны? Запишите **цифры**, под которыми они указаны.

- 1) Страна является мировым лидером по производству многих видов промышленной продукции.
- 2) В Китае разведаны значительные запасы каменного угля и нефти.
- 3) В Китае нет рек, обладающих значительными гидроэнергоресурсами.
- 4) Большая часть населения сосредоточена в восточной части страны.
- 5) Большинство верующих исповедуют ислам.

Алгоритм выполнения задания:

1. Внимательно прочитайте текст задания, обратите внимание: необходимо выбрать все верные утверждения.
2. Проанализируйте каждое высказывание.
3. Запишите ответ: 124

Задание №11

Прочитайте приведённый ниже текст, в котором пропущен ряд слов (аббревиатур). Выберите из предлагаемого списка слова (аббревиатуры), которые необходимо вставить на места пропусков.

Географические особенности Франции

Франция относится к числу высокоразвитых стран Западной Европы. Она обладает высокоразвитой современной промышленностью, главная роль в которой принадлежит _____(А). Большая часть электроэнергии в стране производится на _____(Б). Франция является одним из крупнейших производителей сельскохозяйственной продукции в Зарубежной Европе. Как и в большинстве экономически развитых стран, более половины объёма продукции сельского хозяйства приходится на _____(В). Выбирайте последовательно одно слово (аббревиатуру) за другим, мысленно вставляя на места пропусков. Обратите внимание на то, что слов (аббревиатур) в списке больше, чем Вам потребуется для заполнения пропусков. Каждое слово (аббревиатура) может быть использовано только **один** раз.

Алгоритм выполнения задания:

- | | |
|---|--------------------|
| 1. Внимательно прочитайте текст. Вспомните особенности государства, о котором идёт речь. | 1) машиностроение |
| 2. Проанализируйте список слов, словосочетаний, разбейте их на 3 смысловых пары: 1) машиностроение/металлургия; 2) ГЭС/АЭС; 3) растениеводство/животноводство | 2) металлургия |
| 3. Установите соответствие каждой пары слов пропускам в тексте. | 3) ГЭС |
| 4. Запишите ответ: 146 | 4) АЭС |
| | 5) растениеводство |
| | 6) животноводство |

Прочитайте приведённый ниже текст, в котором пропущен ряд слов (словосочетаний). Выберите из предлагаемого списка слова (словосочетания), которые необходимо вставить на места пропусков.

Отрасли международной специализации Норвегии

Норвегия – одна из высокоразвитых европейских стран. По производству отдельных видов промышленной продукции Норвегия занимает лидирующие позиции в регионе. Так, Норвегия является крупным в зарубежной Европе производителем и экспортёром _____ (А). В стране высокоразвитая электроэнергетика. Норвегия относится к числу мировых лидеров по производству электроэнергии на душу населения. Одной из отраслей специализации традиционно является _____ (Б). В общем грузообороте Норвегии лидирует _____ (В) транспорт, который обслуживает в основном внешнеэкономические связи страны.

Выбирайте последовательно одно слово (словосочетание) за другим, мысленно вставляя на места пропусков слова (словосочетания). Обратите внимание на то, что слов (словосочетаний) в списке больше, чем Вам потребуется для заполнения пропусков. Каждое слово (словосочетание) может быть использовано только **один** раз.

Алгоритм выполнения задания:

1. Внимательно прочитайте текст. Вспомните особенности государства, о котором идёт речь.
 2. Проанализируйте список слов, словосочетаний, разбейте их на 3 смысловых пары: 1) чёрная металлургия/рыбная промышленность; 2) нефть и природный газ/железные и медные руды; 3) железнодорожный/морской
 3. Установите соответствие каждой пары слов пропускам в тексте.
 4. Запишите ответ: **326**
- 1) чёрная металлургия
 - 2) рыбная промышленность
 - 3) нефть и природный газ
 - 4) железные и медные руды
 - 5) железнодорожный
 - 6) морской

Прочитайте приведённый ниже текст, в котором пропущен ряд слов (словосочетаний). Выберите из предлагаемого списка слова (словосочетания), которые необходимо вставить на места пропусков.

Саудовская Аравия

Саудовская Аравия – одна из крупнейших по площади стран Юго-Западной Азии. По форме правления является _____ (А). Большая часть её территории находится в _____ (Б) климатическом поясе. Основное национальное богатство страны – нефть, крупные запасы которой сосредоточены в восточной части страны в районе _____ (В). Нефтяная и газовая промышленность – основа экономического могущества страны.

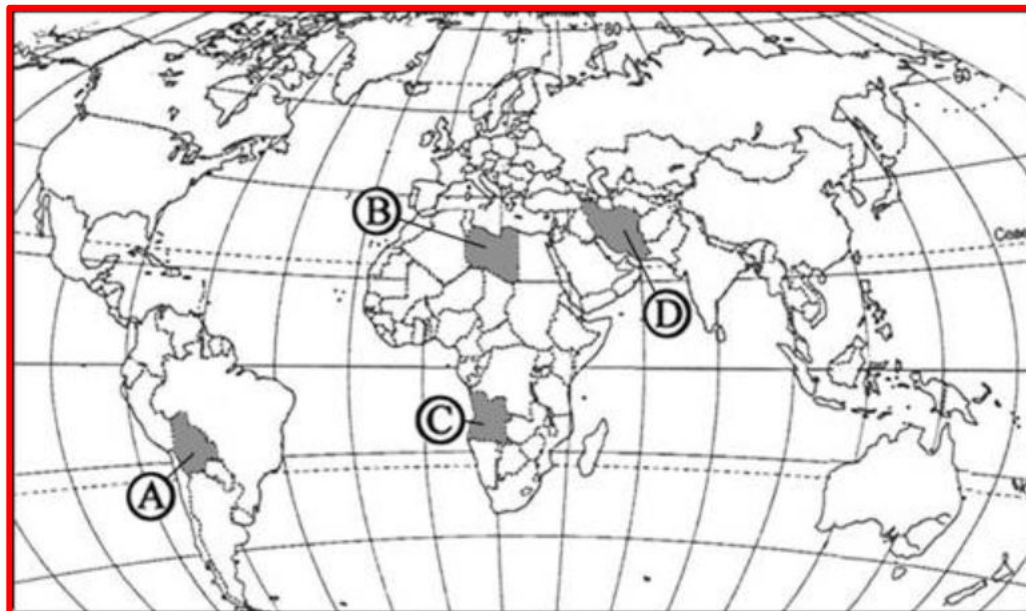
Выбирайте последовательно одно слово (словосочетание) за другим, мысленно вставляя на места пропусков слова (словосочетания). Обратите внимание на то, что слов (словосочетаний) в списке больше, чем Вам потребуется для заполнения пропусков. Каждое слово (словосочетание) может быть использовано только **один** раз.

Алгоритм выполнения задания:

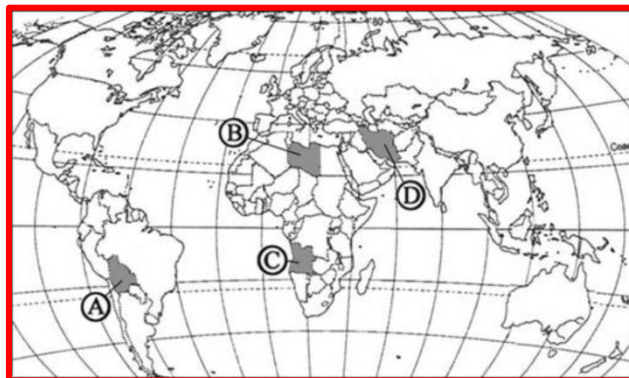
- | | |
|--|---------------------|
| 1. Внимательно прочитайте текст. Вспомните особенности государства, о котором идёт речь. | 1) республика |
| 2. Проанализируйте список слов, словосочетаний, разбейте их на 3 смысловых пары: | 2) субтропический |
| 1) республика/монархия; | 3) Персидский залив |
| 2) субтропический/тропический; | 4) тропический |
| 3) Персидский залив/Красное море | 5) Красное море |
| 3. Установите соответствие каждой пары слов пропускам в тексте. | 6) монархия |
| 4. Запишите ответ: 643 | |

Проверим себя!

Какой буквой на карте мира
обозначена территория
государства Ливия?



Проверим себя!



Правильно: **В**



Проверим себя!

Внимательно прочитайте текст задания и выберите верный ответ из списка.

Какие два языка являются официальными в Канаде?



Проверим себя!

Какие два языка являются официальными в Канаде?

Варианты ответа:

- английский и немецкий
- английский и французский
- французский и итальянский
- английский и итальянский

Проверим себя!

Правильно:


английский и французский



Проверим себя!

Внимательно прочитайте текст задания и выберите верный ответ из списка.

Что из перечисленного характерно для природы Финляндии?



Проверим себя!

Что из перечисленного характерно для природы Финляндии?

Варианты ответа:

- преобладание гор в рельефе
- наличие действующих вулканов
- резко континентальный тип климата
- широкое распространение хвойных лесов

Проверим себя!

Правильно: **широкое
распространение хвойных лесов.**



Проверим себя!

Внимательно прочитайте текст задания и выберите верный ответ из списка.

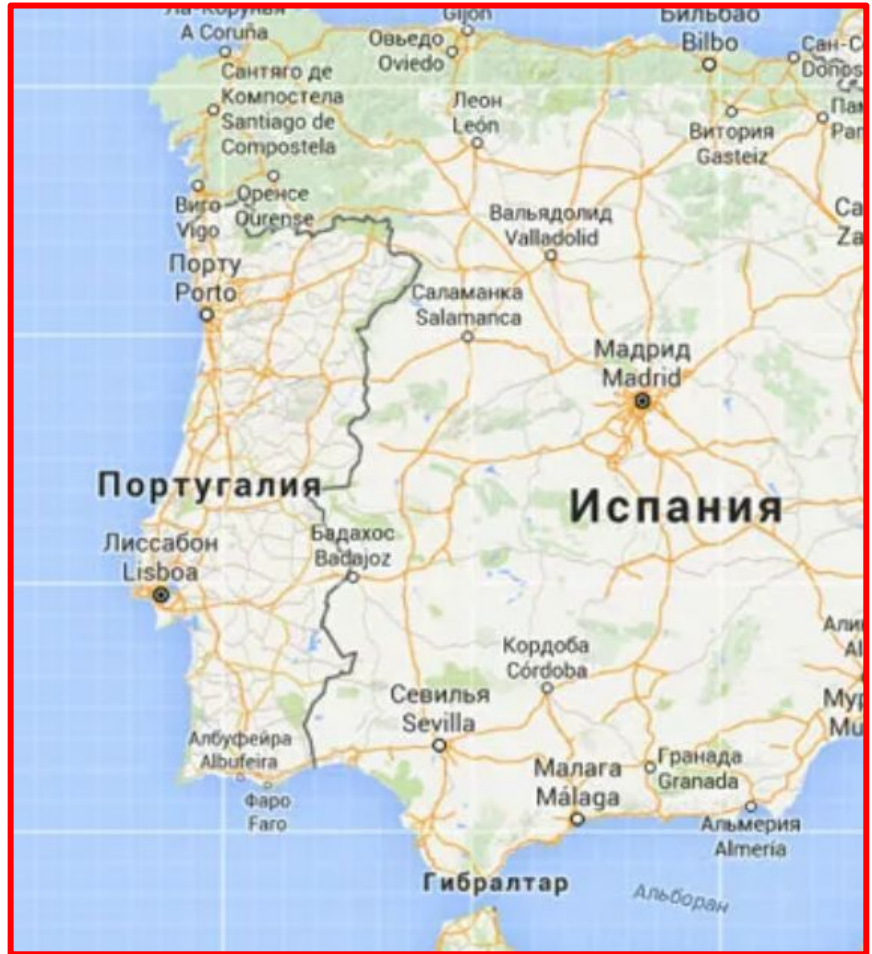
Какое из следующих утверждений об особенностях географического положения Португалии является верным?



Проверим себя!

Варианты ответа:

- На территории страны находится крайняя южная точка Европы.
- Португалия омывается водами Средиземного моря.
- Португалия имеет сухопутную границу лишь с одной страной.
- Португалия находится в умеренном климатическом поясе.



Проверим себя!

Правильно:

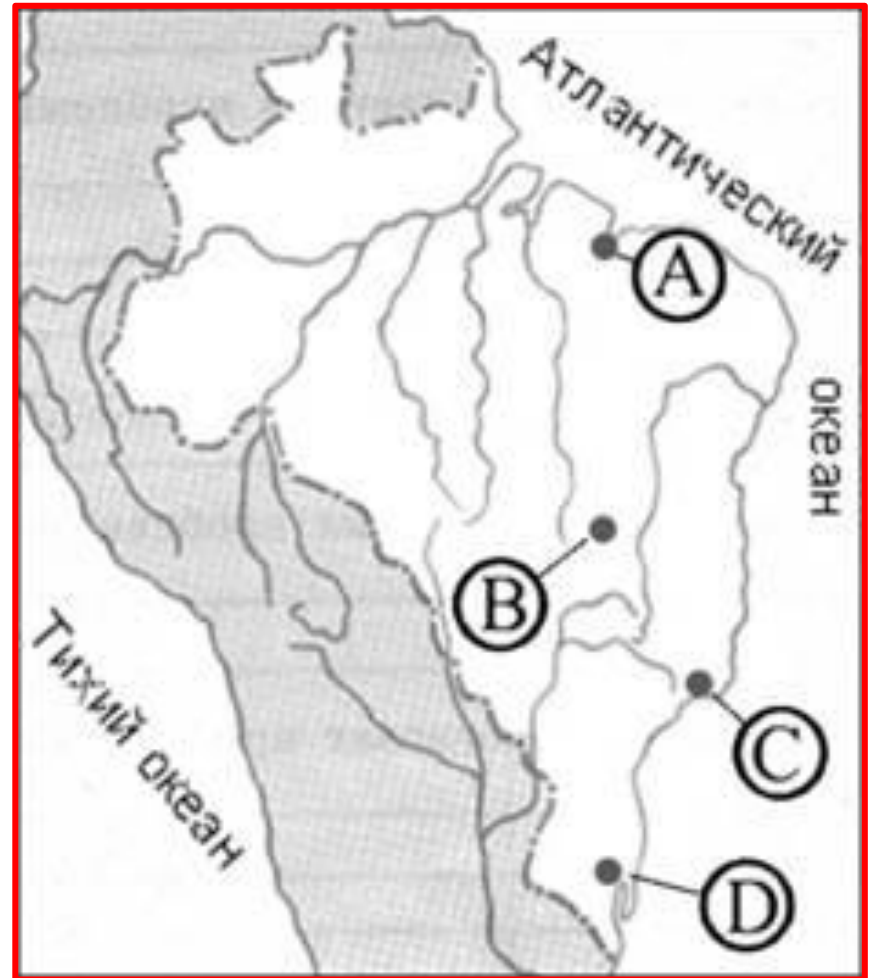
Португалия имеет сухопутную границу лишь с одной страной.



Проверим себя!

Внимательно прочитайте текст задания и выберите верный ответ из списка.

Какой буквой на приведённой картосхеме Бразилии обозначена её столица?



Проверим себя!

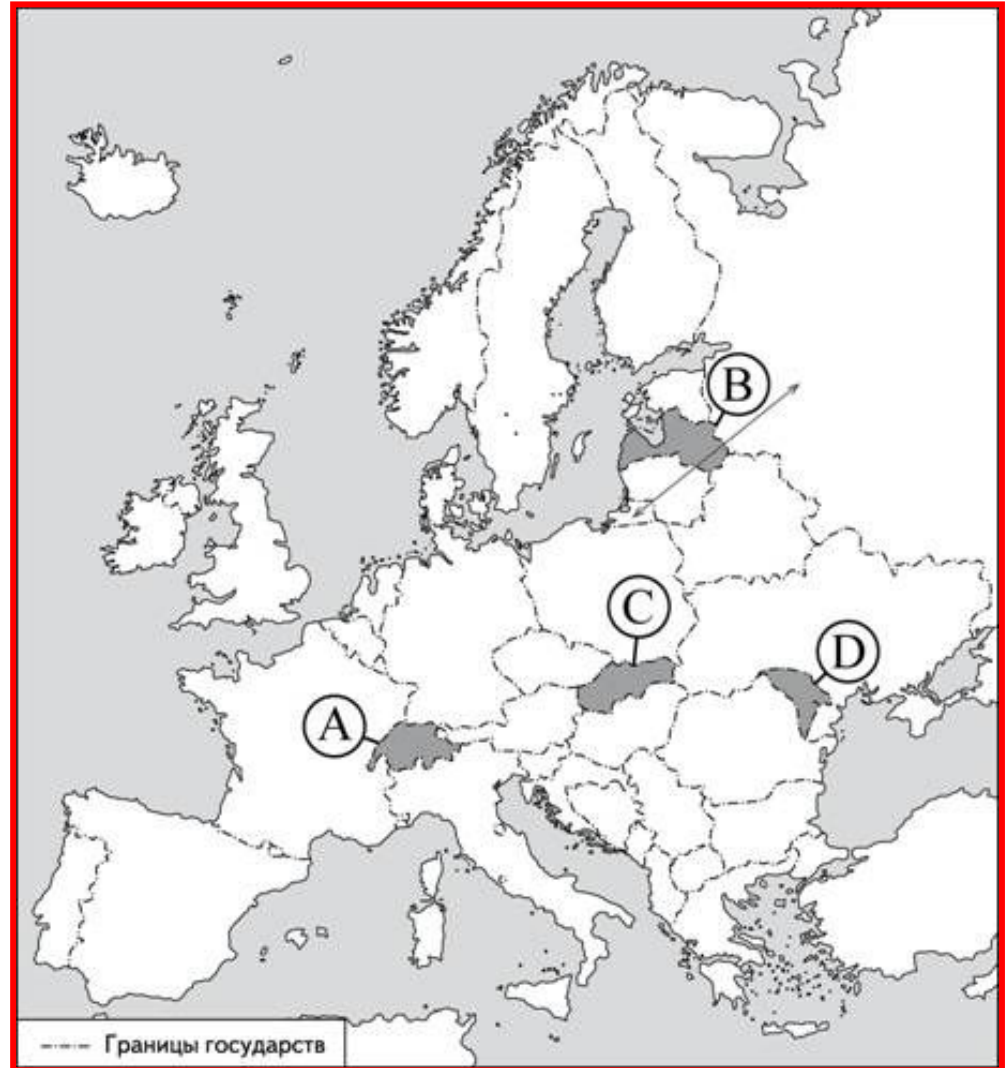
Правильно: **ответ В**



Проверим себя!

Внимательно прочитайте текст задания и выберите верный ответ из списка.

Какой буквой на карте Европы обозначена территория государства Латвия?



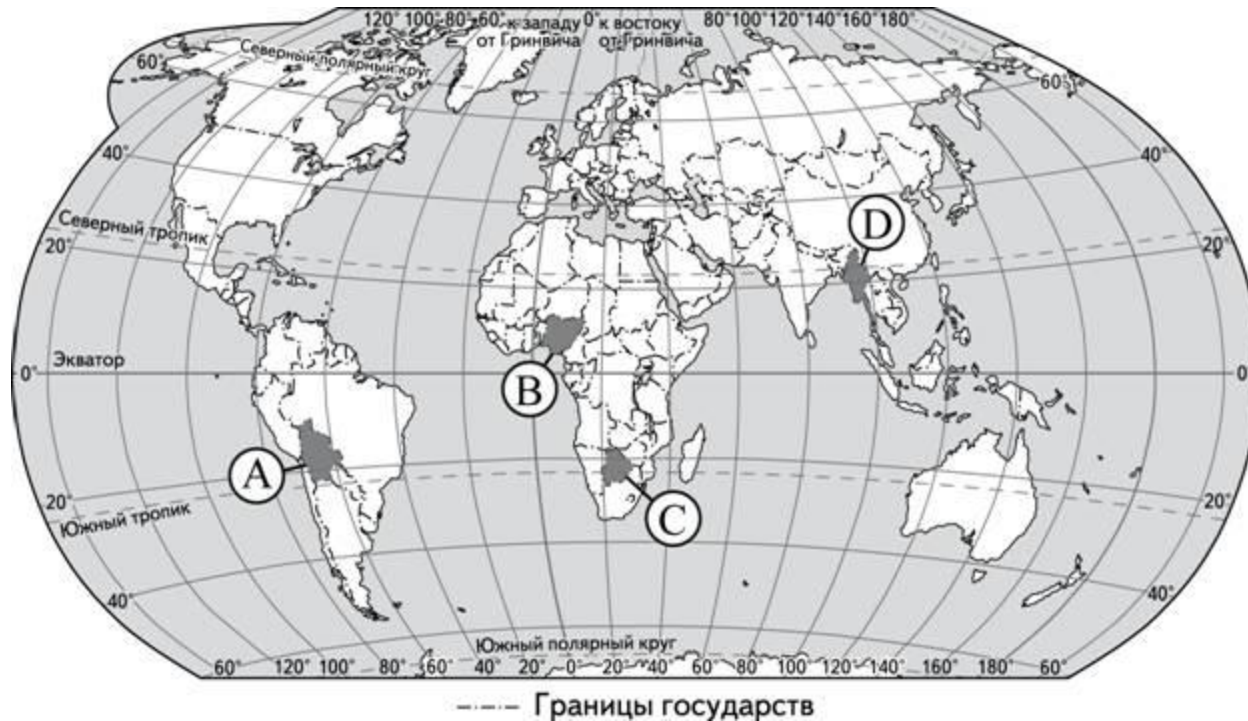
Проверим себя!

Правильно: **ответ В**



Проверим себя!

Внимательно прочитайте текст задания и выберите верный ответ из списка.
Какой буквой на карте мира обозначена территория государства Боливия?



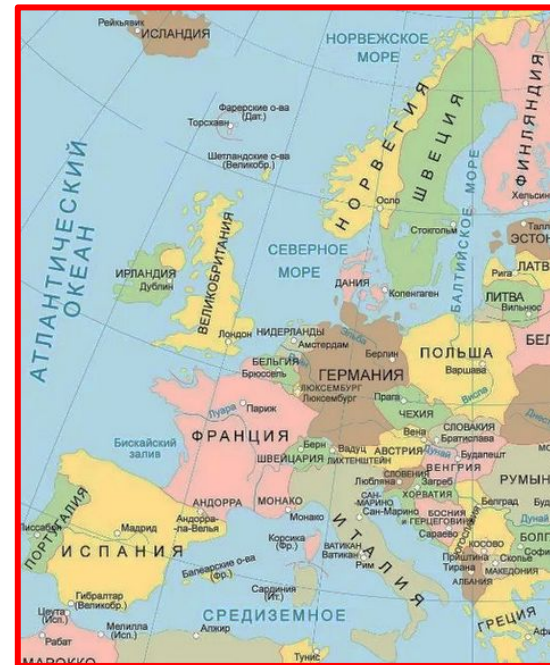
Проверим себя!

Правильно: ответ А

Проверим себя!

Определите страну
по её краткому описанию

Эта высокоразвитая страна –
одна из крупных по территории стран Европы.



Проверим себя!

Определите страну
по её краткому описанию

В стране имеются запасы железных,
алюминиевых и урановых руд.



Проверим себя!

Определите страну
по её краткому описанию

Большая часть электроэнергии
производится на АЭС.



Проверим себя!

Определите страну
по её краткому описанию

Природные условия благоприятны для
развития сельского хозяйства, причём как
растениеводства, так и животноводства.



Проверим себя!


Определите страну
по её краткому описанию

Страна входит в число мировых лидеров по
производству сахарной свёклы, винограда и
пшеницы.




Проверим себя!

Определите страну
по её краткому описанию



Ответ:
Франция



Источники информации

1. Видеоконсультации по подготовке к ЕГЭ <https://fipi.ru/ege/videokonsultatsii-razrabotchikov-kim-yege> .
2. Открытый банк заданий ЕГЭ <http://os.fipi.ru/tasks/8/a>
3. Демонстрационный вариант контрольных измерительных материалов единого государственного экзамена 2020 г. и спецификация контрольных измерительных материалов для проведения ЕГЭ в 2020 г. <https://fipi.ru/ege/demoversii-specifikacii-kodifikatory#!/tab/151883967-8>
4. Для предметных комиссий субъектов РФ. География <https://fipi.ru/ege/dlya-predmetnyh-komissiy-subektov-rf#!/tab/173729394-8>
5. Методические рекомендации для учителей, подготовленные на основе анализа типичных ошибок участников ЕГЭ 2019 г. <https://fipi.ru/ege/analiticheskie-i-metodicheskie-materialy>
6. Официальный информационный портал единого государственного экзамена <http://www.ege.edu.ru/ru/>
7. РЭШ <https://resh.edu.ru/>

Учебники:

УМК География. Максаковский В.П. (10-11)

<https://prosv.ru/umk/geography-maksakovskiy.html>