

Телепроект «МОЯ ШКОЛА в online»

ГОТОВИМСЯ К ЕГЭ

# ГЕОГРАФИЯ

11 класс

## Урок № 7

Географические особенности размещения населения. Городское и сельское население мира. Урбанизация как всемирный процесс. Примеры заданий.

Красновид Павел Евгеньевич

учитель географии МБОУ

"Гимназия имени Подольских курсантов"

# Что мы сегодня будем изучать?

Особенности размещения населения.  
Плотность населения

Городское и сельское население мира

Урбанизация

Примеры заданий ЕГЭ  
и их решение

# Размещение населения

**Размещение населения** – пространственный рисунок расселения.

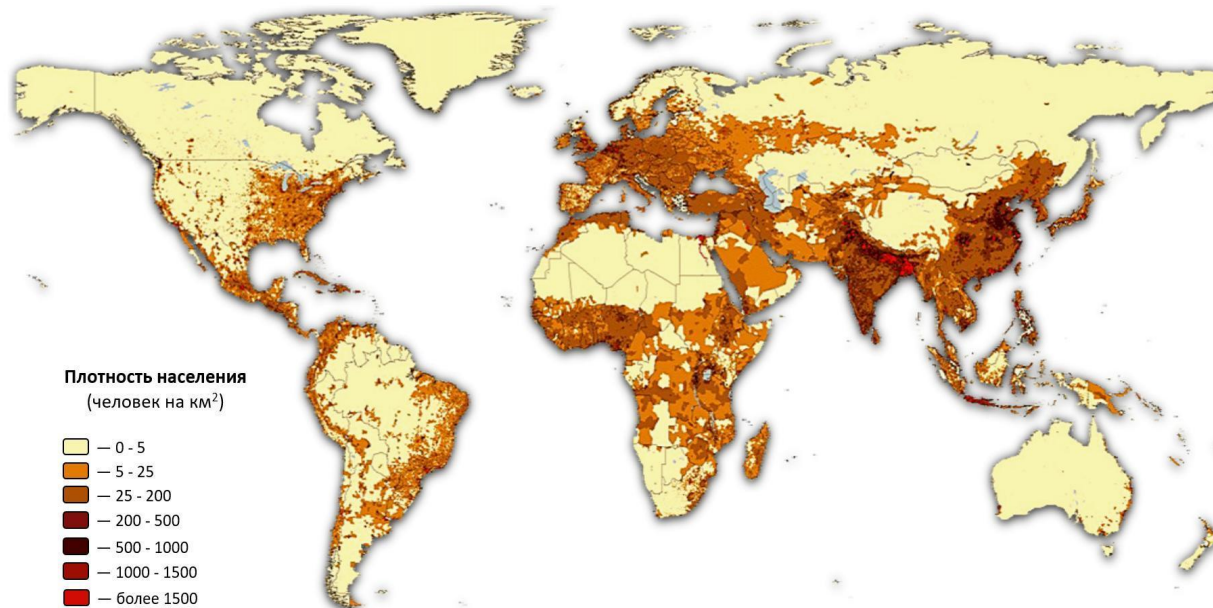
**Плотность населения** – число жителей, приходящееся на 1 км<sup>2</sup> территории.

$$\rho = \frac{N \text{ [чел]}}{S \text{ [км}^2\text{]}}$$

$$\rho_{\text{ср}} = 30 \text{ чел/км}^2$$

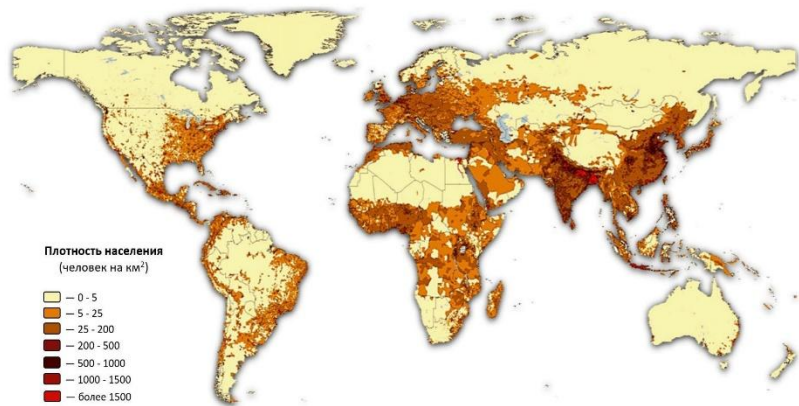
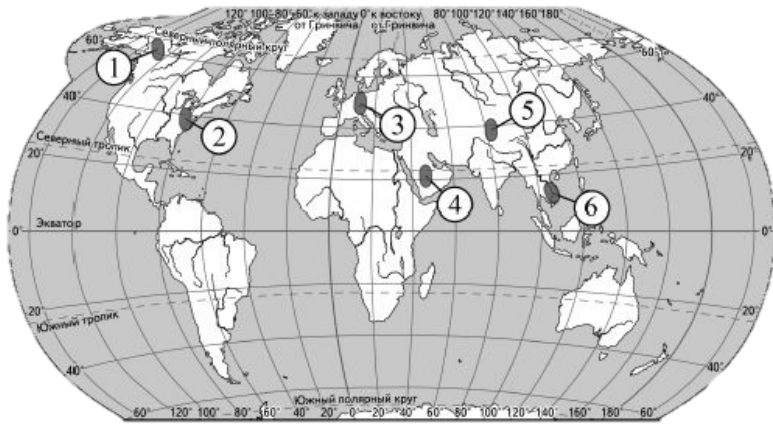
# Регионы наиболее крупных скоплений населения:

- Восточная Азия (Китай, Япония, Корея)
- Южная Азия (Индия, Бангладеш, Шри-Ланка, Пакистан)
- Юго-Восточная Азия (Индонезия, Филиппины, Таиланд, Малайзия и др.)
- Европа (Нидерланды, Бельгия, Великобритания, Германия и др.)
- Атлантическое побережье Северной Америки (северо-восток США).



# Задание 9

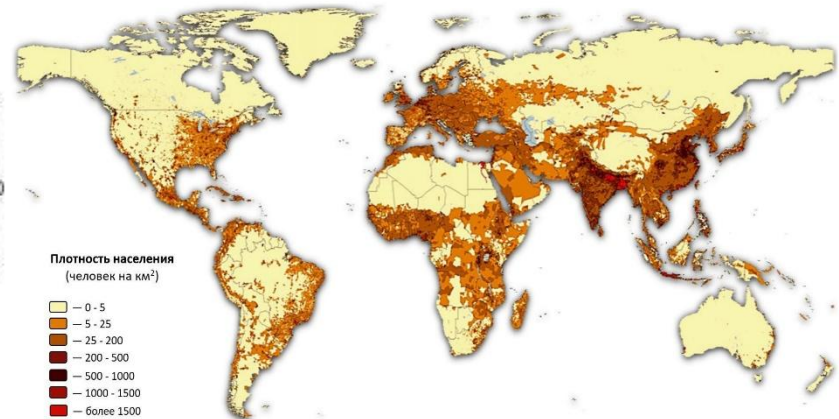
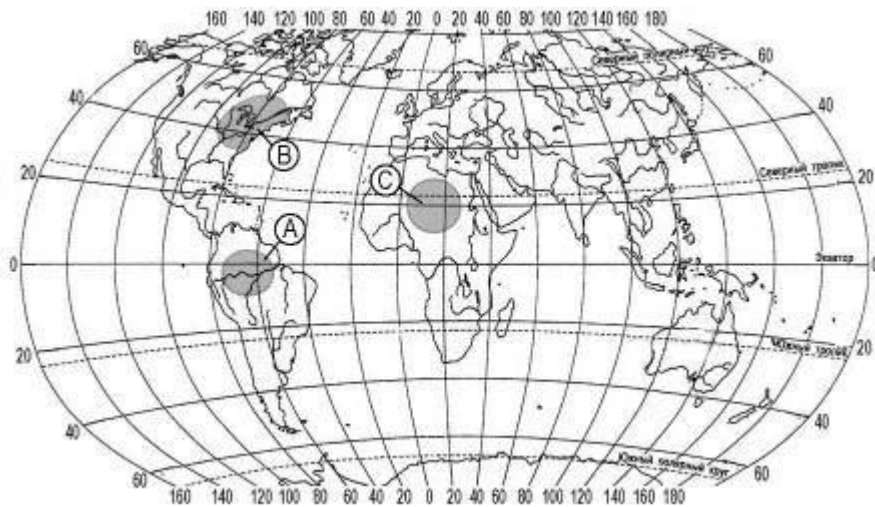
Какие из обозначенных на карте мира территорий имеют наименьшую среднюю плотность населения? В ответ запишите три цифры.



Ответ: **1, 4, 5**

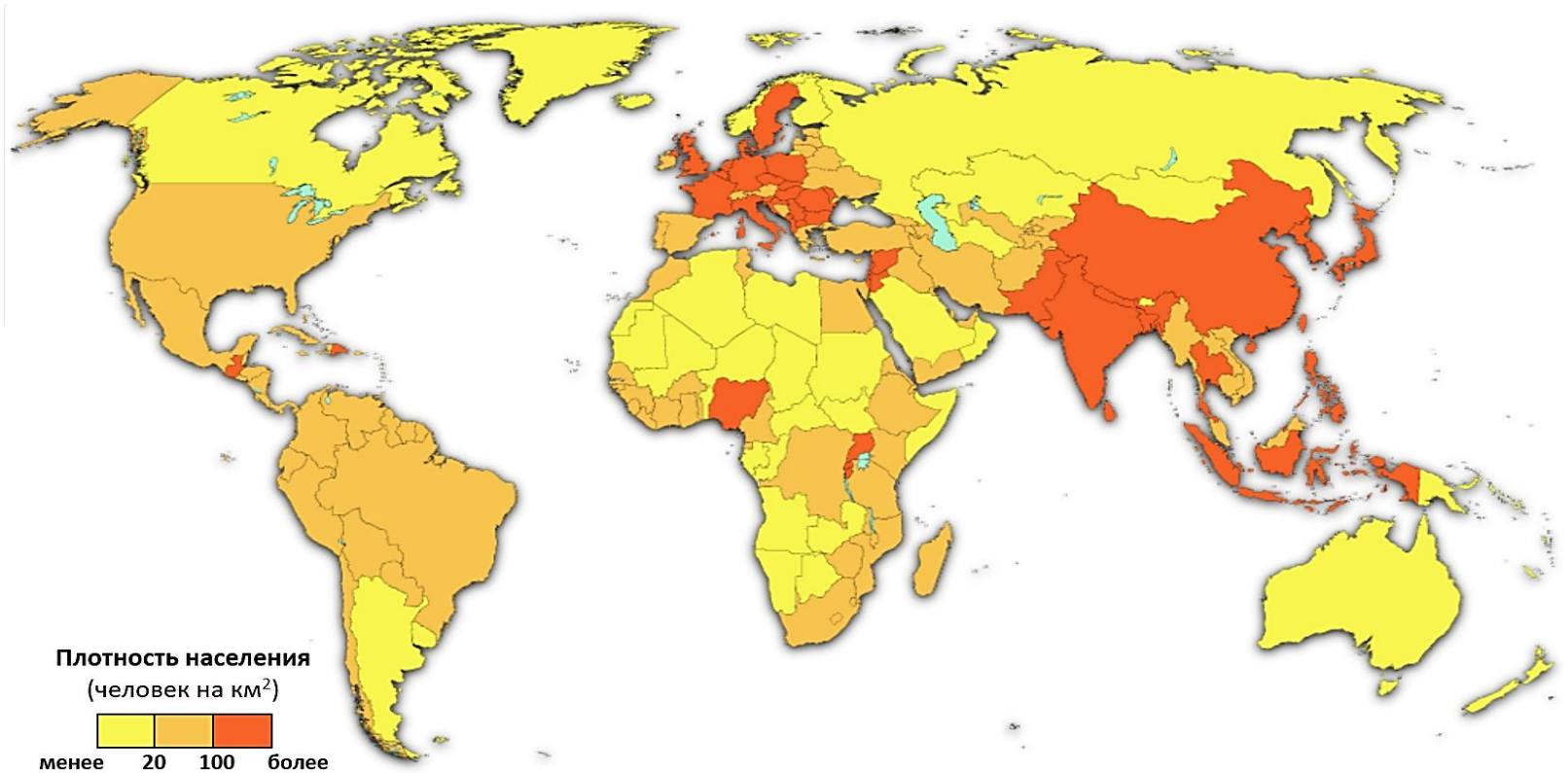
# Задание 9

Какая из территорий, обозначенных буквами на карте мира, имеет наибольшую среднюю плотность населения?



Ответ: **B**

# Средняя плотность населения по странам мира

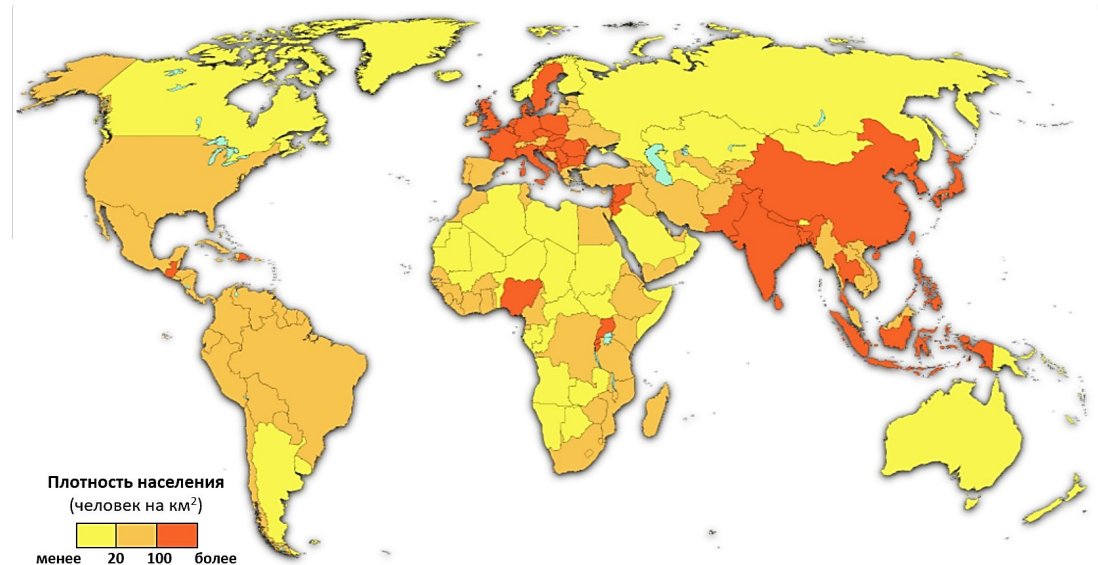


# Задание 9

Какие из перечисленных стран имеют **наибольшую среднюю плотность населения**?

Запишите в таблицу три цифры, под которыми указаны эти страны.

- 1) Австрия
- 2) Австралия
- 3) Казахстан
- 4) Канада
- 5) Бангладеш
- 6) Япония



Ответ: **1, 5, 6**

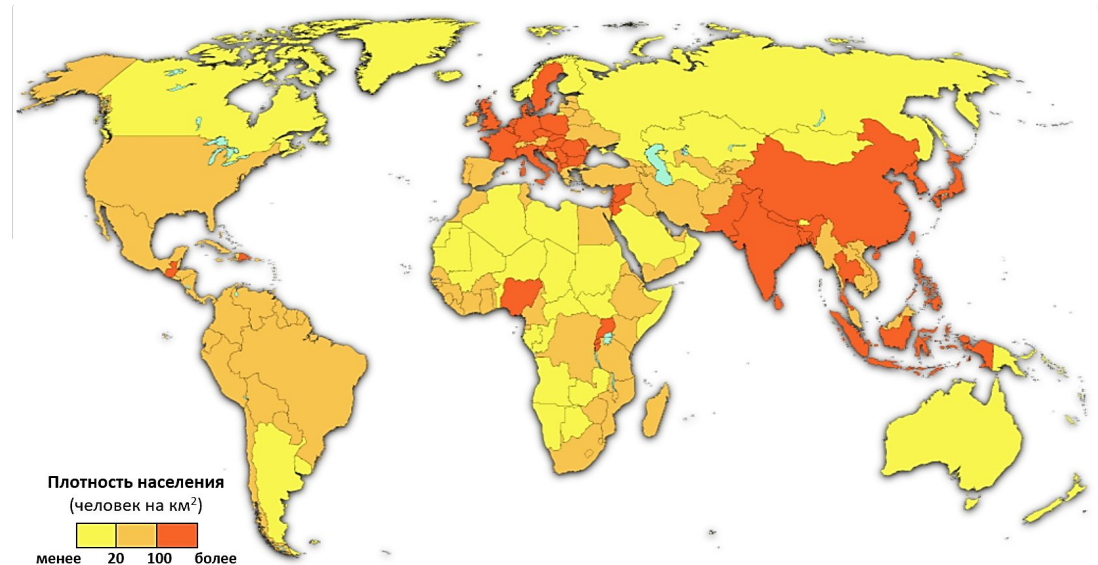


# Задание 9

Какие из перечисленных стран имеют **наименьшую среднюю плотность населения**?

Запишите в таблицу три цифры, под которыми указаны эти страны.

- 1) Австралия
- 2) Болгария
- 3) Казахстан
- 4) Индия
- 5) Канада
- 6) Венгрия



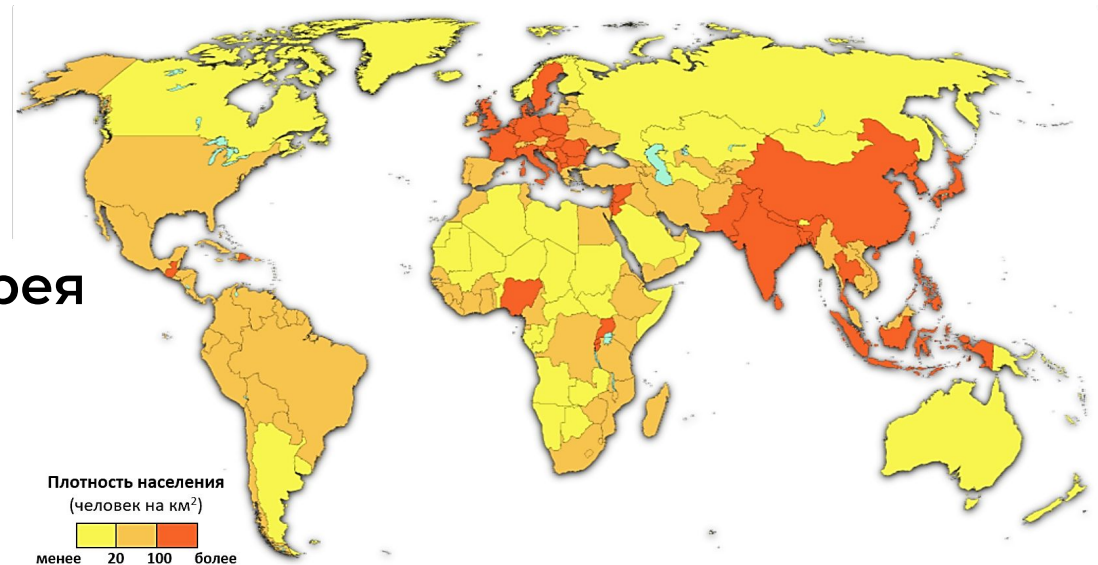
Ответ: **1, 3, 5**

# Задание 9

Какие из перечисленных стран имеют **наибольшую среднюю плотность населения**?

Запишите в таблицу три цифры, под которыми указаны эти страны.

- 1) Индия
- 2) Монголия
- 3) Австралия
- 4) Республика Корея
- 5) Россия
- 6) Германия



Ответ: **1, 4, 6**

# Городское и сельское население

## Типы размещения населения

Городское

Сельское

групповое  
(деревенское)

рассеянное  
(фермерское)

Россия, Китай, Япония,  
ряд стран зарубежной  
Европы, большинство  
развивающихся стран

США, Канада,  
Австралия,  
ряд стран  
зарубежной Европы

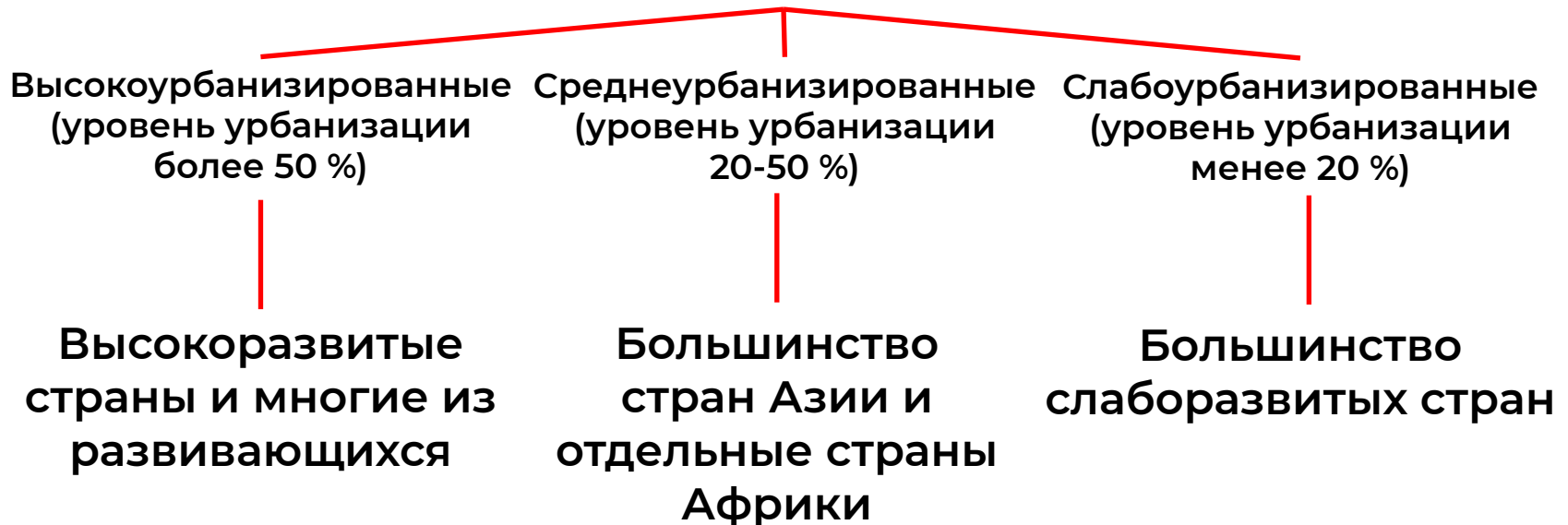


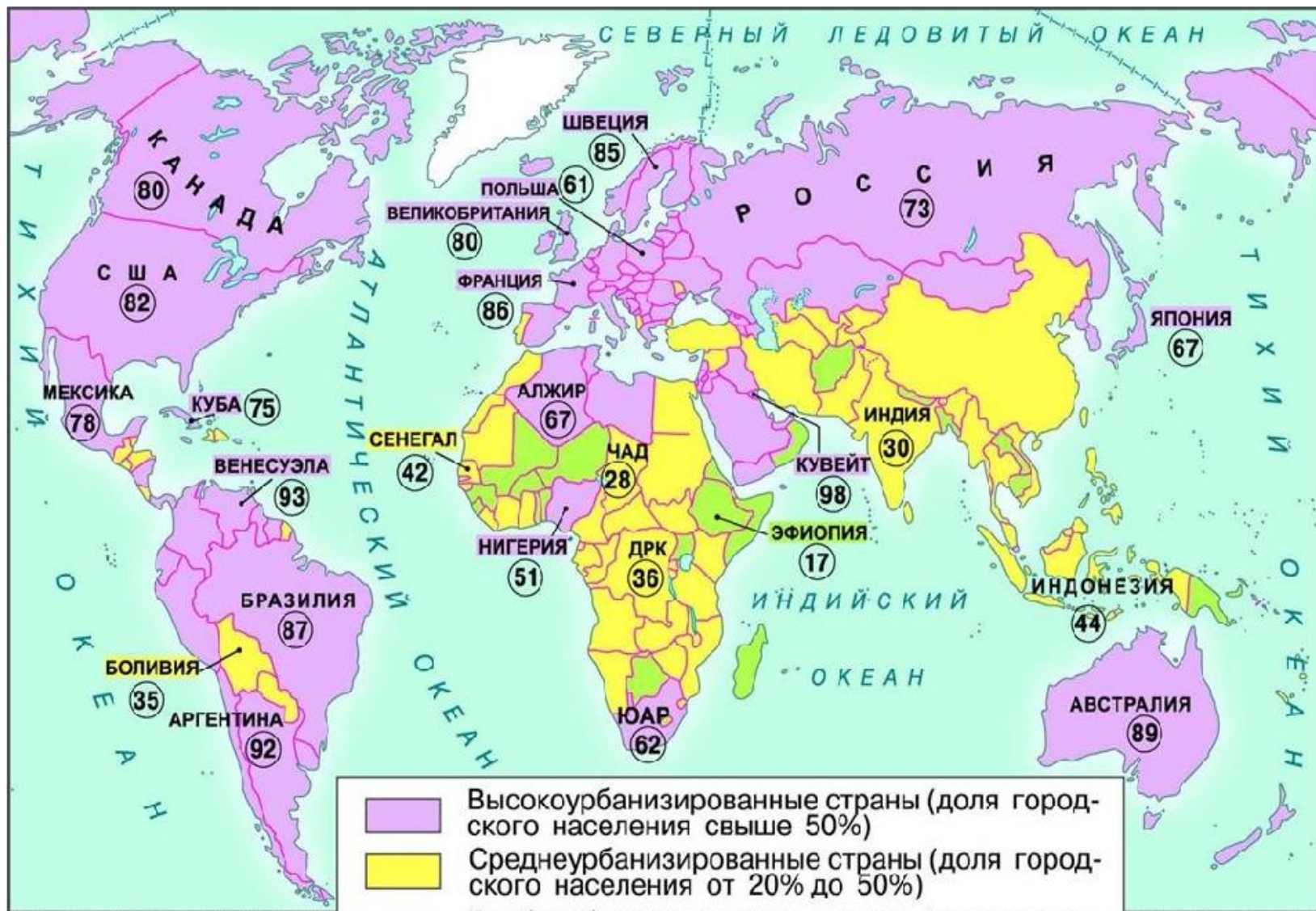
# Урбанизация

**Урбанизация** - процесс роста городов, повышение удельного веса городского населения в стране, регионе, мире, возрастание роли городов во всех сферах жизни общества, преобладание городского образа жизни над сельским.

**Уровень урбанизации** - доля городского населения в общей численности населения.

## Страны мира по уровню урбанизации





Высокоурбанизированные страны (доля городского населения свыше 50%)

Среднеурбанизированные страны (доля городского населения от 20% до 50%)

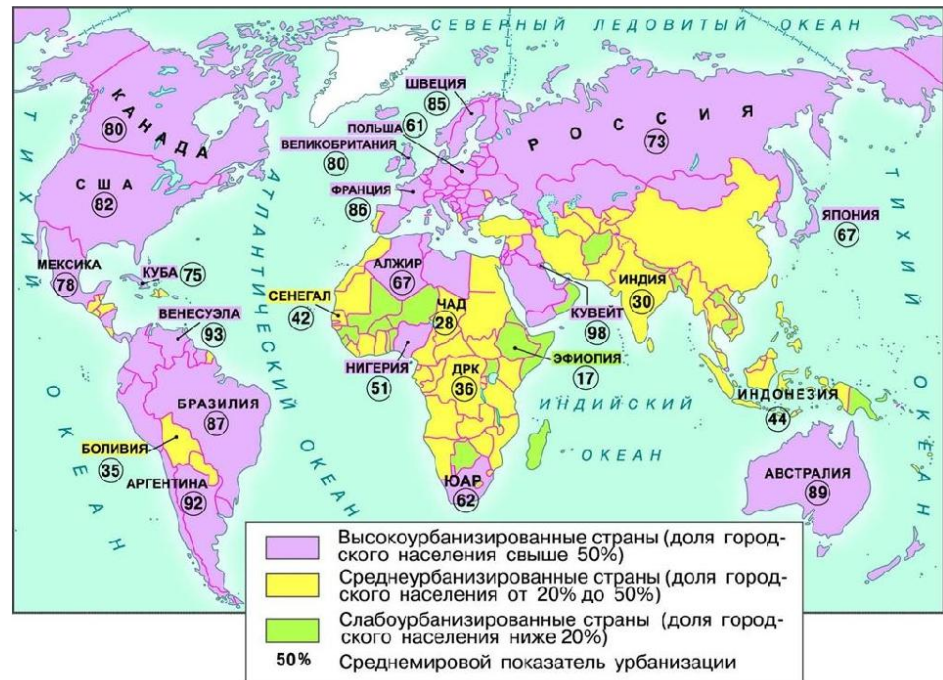
Слабоурбанизированные страны (доля городского населения ниже 20%)

50% Среднемировой показатель урбанизации

# Задание


Расположите страны в порядке возрастания уровня урбанизации. Запишите в таблицу получившуюся последовательность букв.

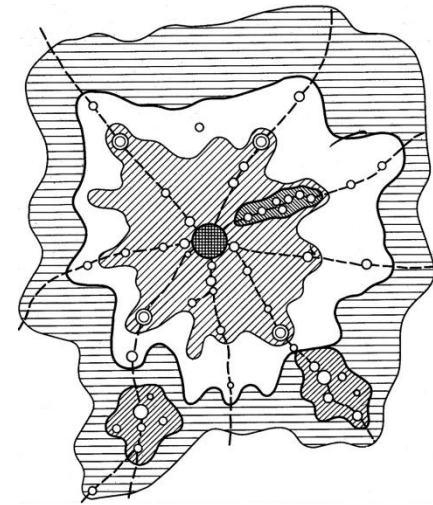
- А) Нигерия
- Б) Мозамбик
- В) Молдавия
- Г) Бельгия



Ответ: **Б, В, А, Г**

**Агломерация** - скопление мелких городов вокруг крупных, объединение с ними в одну систему с хозяйственными, трудовыми и культурно-бытовыми связями.

Место ^	↕	Название	↕	Страна	↕	Население, тыс. чел. (оценка на 2019 год)	↕	Площадь, км <sup>2</sup>	↕	Плотность населения, чел./км <sup>2</sup>
1		Токио — Иокогама		 Япония		38505		8223		4700
2		Джакарта		 Индонезия		34365		3367		10200
3		Дели		 Индия		28125		2240		12600
4		Манила		 Филиппины		25065		1813		13800
5		Сеул — Инчхон		 Республика Корея		24315		2745		8900
6		Мумбаи		 Индия		23645		881		26900
7		Шанхай		 Китай		22125		4015		5500
8		Нью-Йорк		 США		21045		11875		1700
9		Сан-Паулу		 Бразилия		20935		3043		6900
10		Мехико		 Мексика		20395		2370		8600



**Пространственная  
схема агломерации**

## **Мегалополис** - наиболее крупная форма расселения, образующаяся при срастании ряда городских агломераций

Мегалополис	Состав (агломерации)	Численность населения
Босваш	Бостон, Филадельфия, Нью-Йорк, Вашингтон	50 млн чел.
Чипитс	Чикаго, Детройт, Кливленд, Питтсбург	40 млн чел.
Сансан	Сан-Франциско, Сан-Диего	20 млн чел.
Рейнский	Кольцевая агломерация Рандстад в Нидерландах, Рейн-Рур и Рейн-Майн в ФРГ	30 млн чел.
Английский	Лондон, Бирмингем, Манчестер, Ливерпуль	30 млн чел.
Токайдо	Токио, Осака	70 млн чел.



# Задание 15

В каких высказываниях содержится информация об урбанизации? Запишите цифры, под которыми они указаны.

- 1) Значительная часть прироста населения США обеспечивается за счёт переселенцев из других стран.
- 2) Одним из главных направлений современного развития Китая является формирование трёх новых крупных мегалополисов.
- 3) В 1958 году доля городского населения России превысила 50%, а в настоящее время она составляет почти  $3/4$  всего населения страны.
- 4) Главная полоса расселения занимает около трети всей площади территории России, но на её территории проживает более 90% населения.

**Ответ: 2, 3**

# Задание 15

В каких высказываниях содержится информация об урбанизации? Запишите цифры, под которыми они указаны.

1) В 2017 г. общая численность населения стран Южной Америки составляла 423 млн человек - на 4 млн больше, чем в начале 2016 г.

2) Доля горожан в общей численности населения Китая продолжает увеличиваться, в 2017 г. в этой стране в городах проживало более 57 % населения.

3) Общая численность городского населения России в 2016 г. увеличилась почти на 200 тыс. человек.

4) Рост численности населения США в значительной степени обеспечивается за счёт иммигрантов из самых разных стран мира.

**Ответ: 2, 3**

# Задание 15

В каких высказываниях содержится информация об урбанизации? Запишите цифры, под которыми они указаны.

- 1) В Канаде  $2/3$  населения концентрируется в 150-километровой зоне, протянувшейся вдоль границы с США.
- 2) Большая часть населения Японии сконцентрирована в крупных городах и городских агломерациях, расположенных в основном на Тихоокеанском побережье страны.
- 3) В приокеанской полосе шириной 300–350 км сосредоточено  $9/10$  населения Бразилии.
- 4) В 1950 г. в США насчитывалось 170 городских агломераций, а в конце 1990-х гг. — уже около 300.

**Ответ: 2, 4**

# Задание 15

Какие из нижеследующих высказываний содержат информацию о процессе урбанизации? В ответ запишите две цифры.

1. Благодаря принятым на государственном уровне мерам в последние десятилетия процент многодетных семей в Китае сократился.
2. В XX веке в мире возникают сотни городов-миллионеров, вокруг которых формируются так называемые агломерации.
3. Процент городского населения в мире значительно увеличился и достиг 50 % в начале XXI века.
4. Один из крупнейших миграционных потоков традиционно направлен из Африки и Ближнего Востока в Западную Европу.
5. В Бразилии наименее плотно заселены внутренние районы страны.

**Ответ: 2, 3**